

姓名：\_\_\_\_\_

班別：\_\_\_\_\_ ( )

# 考試 (一)

成績

/ 30

範圍：練習1-13

限時

30分鐘

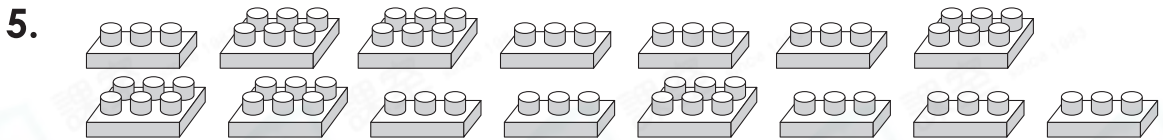
1.  $9 + 0 =$  \_\_\_\_\_ (1分)

2.  $13 - 6 =$  \_\_\_\_\_ (1分)

3.  $4 + 5 =$  \_\_\_\_\_ (1分)



以上是一組倒數的數，\*和⊛合成\_\_\_\_\_。(1分)

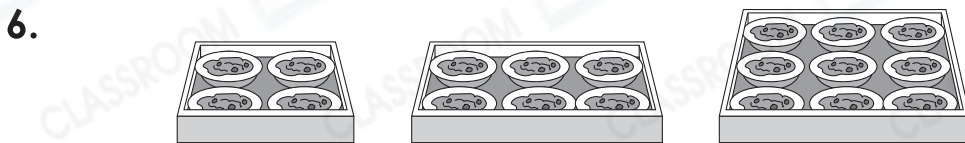


子辰有上面的積木。

(a) 有\_\_\_\_\_塊 。(1分)

(b) \* / (\*圈出答案)的數目是一個奇數。(1分)

(c) 和 的數量相差\_\_\_\_\_塊。(1分)



叔叔買了兩盒上圖中數量較多的蛋撻，即共買了蛋撻多少個？

(列式計算) (2分)

共買了蛋撻：

\_\_\_\_\_

= \_\_\_\_\_ (個)

7. 婉怡和弟弟共吃了10顆🍓，分別寫出他們可能吃了🍓的數量。(1分)

答案：婉怡吃了\_\_\_\_\_顆🍓，弟弟吃了\_\_\_\_\_顆🍓。

8. 兩兄弟分得數量相同的手工紙。哥哥用去6張，還餘下8張。弟弟用去8張，還餘下\_\_\_\_\_張。(1分)



伊晴購買的👑比👓多3件，她買了👓多少件？(列式計算)(2分)

她買了👓：

\_\_\_\_\_

= \_\_\_\_\_ (件)

10. 有🍇🍇🍇🍇🍇，吃去半打，還餘下\_\_\_\_\_顆🍇。(1分)



他共買了\_\_\_\_\_雙襪子。(1分)

12. 子辰的姊姊今年12歲，子辰的表弟今年6歲。下列哪一項不可能是子辰的歲數？(1分)

A. 5歲

B. 8歲


C. 9歲

D. 11歲

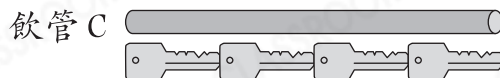
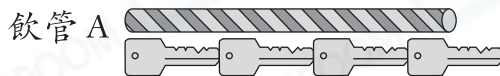
13. 婉怡把公仔放到玩具櫃中。



第一層第二格  $\longrightarrow$   $\uparrow$

- (a)  放在了第 \_\_\_\_\_ 層第 \_\_\_\_\_ 格。(1分)
- (b) 第一層第 \_\_\_\_\_ 格未放公仔。(1分)
- (c) 朋友送給她3個公仔，可全部放在第 \_\_\_\_\_ 層。(1分)

14.



比較三枝飲管的長度，飲管 \_\_\_\_\_ 最長。(1分)

15.

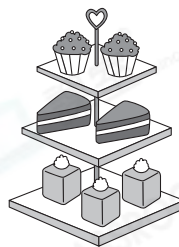


- (a) 距離終點最近的是 \* 子辰 / 婉怡 / 家傲 (\* 圈出答案)。(1分)
- (b) 家傲在伊晴的 \_\_\_\_\_ 面。(1分)

16. 右圖中，

(a)  在  的 \_\_\_\_\_ 面。(1分)

(b)  在  的 \_\_\_\_\_ 面。(1分)



17.



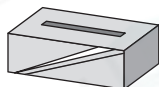
(a)  在最 \_\_\_\_\_ 面。(1分)

(b) \*  /  /  最高。(1分)

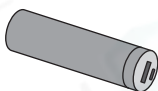
(\* 圈出答案)

18. 觀察下列各物件，寫出所有代表答案的英文字母。

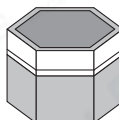
A



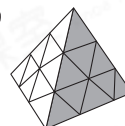
B



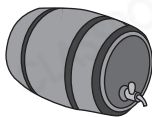
C



D



E



F



G



H



(a) 角柱：\_\_\_\_\_ (1分)

(b) 圓柱：\_\_\_\_\_ (1分)

(c) 球：\_\_\_\_\_ (1分)

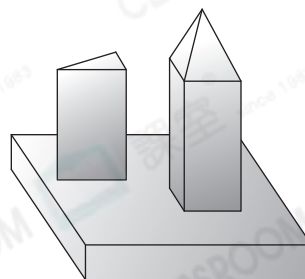
19. 右圖是由哪些立體圖形組成的？(1分)

A. 三個角柱和一個圓錐

B. 兩個角錐和兩個角柱

C. 三個角柱和一個角錐

D. 一個角錐和兩個角柱



— 考試完 —