

姓名：_____

班別：_____ ()

考試 (二)

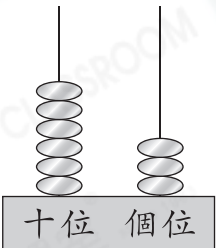
範圍：練習1-28

成績

/ 35

限時

30分鐘

1. 在左圖算柱表示的數中，
- 
- (a) 十位數字是_____，代表_____。(1分)
- (b) 個位數字是_____，代表_____。(1分)

2. 寫出一個比78大，又比85小的雙數。(1分)

答案：_____

3. $7 - 7 =$ _____ (1分)

4. $15 + 22 + 38 =$ _____ (1分)

5. 老師買了6盒原子筆和5盒鉛筆。

(a) 共有_____枝原子筆。(1分)

(b) 原子筆比鉛筆* 多 / 少 (* 圈出答案) _____ 枝。(1分)



6. 花店有88枝太陽花，上午售出一些後，餘下54枝，下午售出了23枝，還餘下太陽花多少枝？(列式計算)(2分)

還餘下太陽花：

= _____ (枝)

7. 有26人正在排隊，子辰後面有11人，子辰排第_____。(1分)

8.



印花換領活動

		
16個	35個	9個

(a) 伊晴換領一個杯子和一個茶壺，需要_____個印花。(1分)

(b) 婉怡有20個印花，她可以換領哪些物件？(圈出答案)

* 兩個杯子 / 兩把雨傘 / 一個杯子和一把雨傘 (1分)

9. 雪櫃有，家傲每天吃一條，一星期後，還餘下_____條。(1分)

10. 叔叔將去日本的東京和大阪公幹42天。

(a) 他將在東京公幹20天，在大阪公幹_____天。(1分)

(b) 公幹完畢後，他會在日本多逗留12天訪友，他共在日本逗留_____天。(1分)

11. 1個可換得_____個和_____個。(1分)

12.



以上兩個時鐘分別顯示中秋晚會開始時間和結束時間。

(a) 中秋晚會在_____結束。(1分)

(b) 中秋晚會共長_____小時。(1分)

13.

八月						
日	一	二	三	四	五	六
			1	2	3	4
5	6	7	8	9	10	11
12	13	14	15	16	17	18
19	20	21	22	23	24	25
26	27	28	29	30	31	

(a) 伊晴逢星期六都要上一堂舞蹈班，八月份她共上了
_____堂舞蹈班。(1分)

(b) 每堂舞蹈課在三時至五時進行，即上課_____小時。
(1分)

(c) 舞蹈比賽在八月二十七日舉行，那天是星期_____。
(1分)

(d) 爸爸的公司由8月31日起放假，一連五天，假期的最後一
天是星期_____。(1分)

14. (a) 一罐汽水的售價是多少？(1分)

答案：_____元_____角



(b) 家傲用以下款項買一罐汽水。圈出他餘下的款項。(1分)



15. 以下哪一項不適合用  來量度？(1分)

A. 汽車的長度

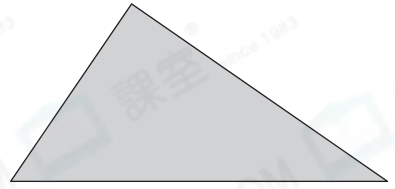
B. 兩棵大樹之間的距離

C. 雪櫃的高度


D. 泳池的長度

16. (a) 右圖是一個 _____ 形。(1分)


(b) 用厘米尺量度圖形最長的一條邊，
它的長度是 _____ cm。(1分)



17.



(a) * 成語詞典 / 數學練習 / 筆記簿 (*圈出答案)最厚。(1分)

(b)  在桌子的 _____ 面。(1分)

18. 經過右圖的三點最多可畫多少
條直線？(1分)

• O

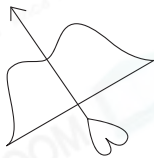
答案：_____ 條

P •

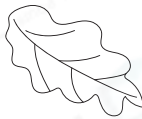
• Q

19. 下列哪一個圖形只由曲線組成？(1分)

A.



B.



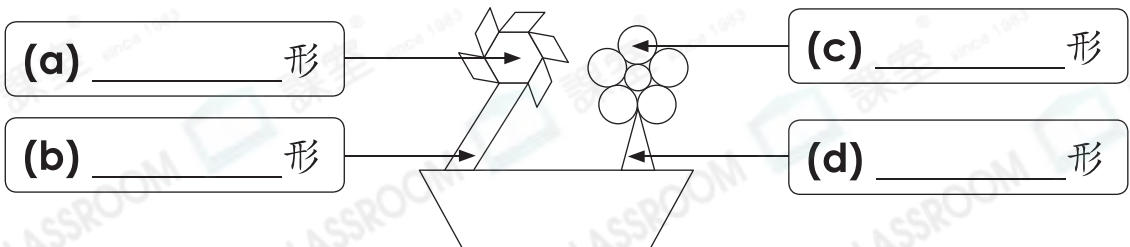
C.



D.



20. 下圖由哪些平面圖形組成？寫出它們的名稱。(4分，每分題1分)



— 考試完 —