

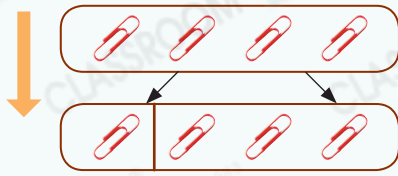
5 2至10的分和合



要點導航

例 4可分成1和3。

$$4 = 1 + 3$$



1和3合成4。

$$1 + 3 = 4$$

填一填。


1.



3和2合成_____。

$$3 + 2 = \square$$


2.



8可分成5和_____。

$$8 = 5 + \square$$

3.



$$\square - 4 = \square$$

伊晴參加了校慶文藝演出，和同學一起表演舞蹈《夏天》。

4.



參加舞蹈《夏天》演出的學生有： $6 + \square = \square$ (名)

5.



(a) 老師共準備了花環： $\square + 2 = \square$ (個)

(b) 給每名女生派一個花環，還餘下_____個花環。

婉怡的爸爸經營一間服裝店，他正在點算未出售的夏季衣物。

6.



以上是未售出的裙子，

(a) 共有_____條裙子未售出。

(b) 爸爸* 能 / 不能 (* 圈出答案)把這些裙子分成兩等份捐出。





7. 服裝店共餘下10條短褲，下列哪一項不可能是餘下的短褲？

A. 5條  和 5條 

B. 3條  和 7條 

C. 1條  和 9條 

D. 4條  和 4條 

8.  和  共餘下7件，其中有2件 ，那麼餘下  多少件？

答案：_____件

子辰的姑媽正在做紙杯蛋糕。

9.



姑媽做蛋糕用去了兩盒雞蛋，共10隻，她用去了哪兩盒雞蛋？

答案：_____盒和_____盒

10. 姑媽把製作好的8個  放入兩個盒子，在盒子內畫「○」表示。

