

6 11至18的分和合



要點導航

例




5和6合成11。

$$5 + 6 = 11$$

依圖示，完成算式。


1.



$$13 = \square + \square$$


$$\square + \square = \square$$

2.



$$\square - 5 = \square$$

3.



$$\square - 9 = \square$$

上視藝課時，伊晴和婉怡用樹葉製作剪貼畫。伊晴婉怡4. 兩人共用了_____片 。5. 兩人共用了_____片 。6. 伊晴用了_____片樹葉，比婉怡用得* 多 / 少 (* 圈出答案)。

婉怡一家去吃壽司。

7. 媽媽吃了兩碟 ，即她共吃了_____件壽司。

8. 爸爸吃了16件壽司，他吃了哪兩碟壽司？

答案：*



(* 圈出答案)

9. 婉怡和弟弟吃了  和 。

(a) 兩人共吃了_____件壽司。

(b) 弟弟吃了5件壽司，婉怡吃了_____件壽司。

家傲邀請朋友參加他的生日會。

10.

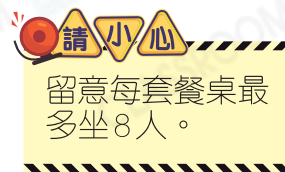


(a) 以上兩套餐桌椅共可讓_____人同時用餐。

(b) 共有14人參加生日會，應怎樣安排座位？在空格內填答案。

答案一：14 = +

答案二：14 = +



11.



家傲收到13份禮物，其中7份未拆開，即拆開了_____份。