



## 要點導航

例

都有尖頂，而圓錐能滾動。

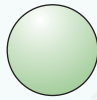


圓錐



角錐

圓圓的，沒有平平的部分，能任意滾動。



球

兩端都是平平的，而圓柱能滾動。



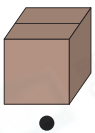
角柱



圓柱

連連看。

1.



圓柱

2.



角柱

3.



圓錐

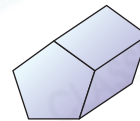
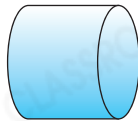
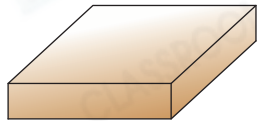
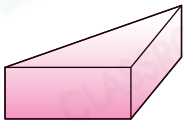
4.



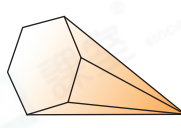
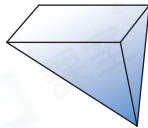
球

把不同類的立體圖形圈出來。

5.



6.



子辰的媽媽買了一些食物。

7. 媽媽買了右面的糖果，這個糖果盒是一個

A. 角柱。

B. 角錐。

C. 圓柱。

D. 圓錐。

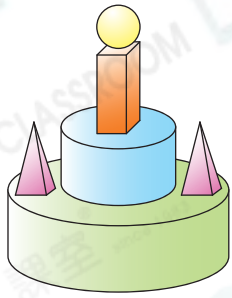


8. 媽媽把3盒  整齊地疊起來，將會砌成哪一種立體圖形？

答案：\_\_\_\_\_


## 家傲和弟弟在拼砌積木。

9.



左圖是弟弟拼砌的模型。

(a) 他用的  是一個 \_\_\_\_\_。

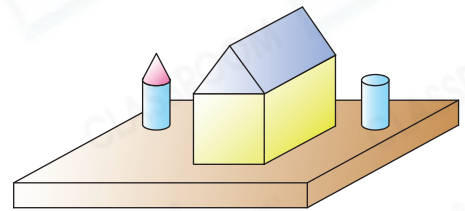
(b) 他用的  是一個 \_\_\_\_\_。

10. (a) 家傲不能把  平穩地疊放在以下哪塊積木上？



(\* 圈出答案)

(b) 最終家傲拼砌出右面的模型，他用了 \_\_\_\_\_ 塊角柱積木、 \_\_\_\_\_ 塊圓柱積木和 \_\_\_\_\_ 塊圓錐積木。



11. 兩人共用了多少塊能滾動的積木？

答案：\_\_\_\_\_ 塊

12. 兩人共用了 \_\_\_\_\_ 塊有尖頂的積木。

## STEAM 探索營

13.



上圖中的就是金字塔，它們都是哪一種立體圖形？

答案：\_\_\_\_\_

### 知多點

埃及的金字塔數量超過80座，其中最著名的是吉薩金字塔羣。吉薩金字塔羣主要由3座大金字塔組成，最大的一座是胡夫金字塔。胡夫金字塔被稱為古代世界七大奇蹟之一。