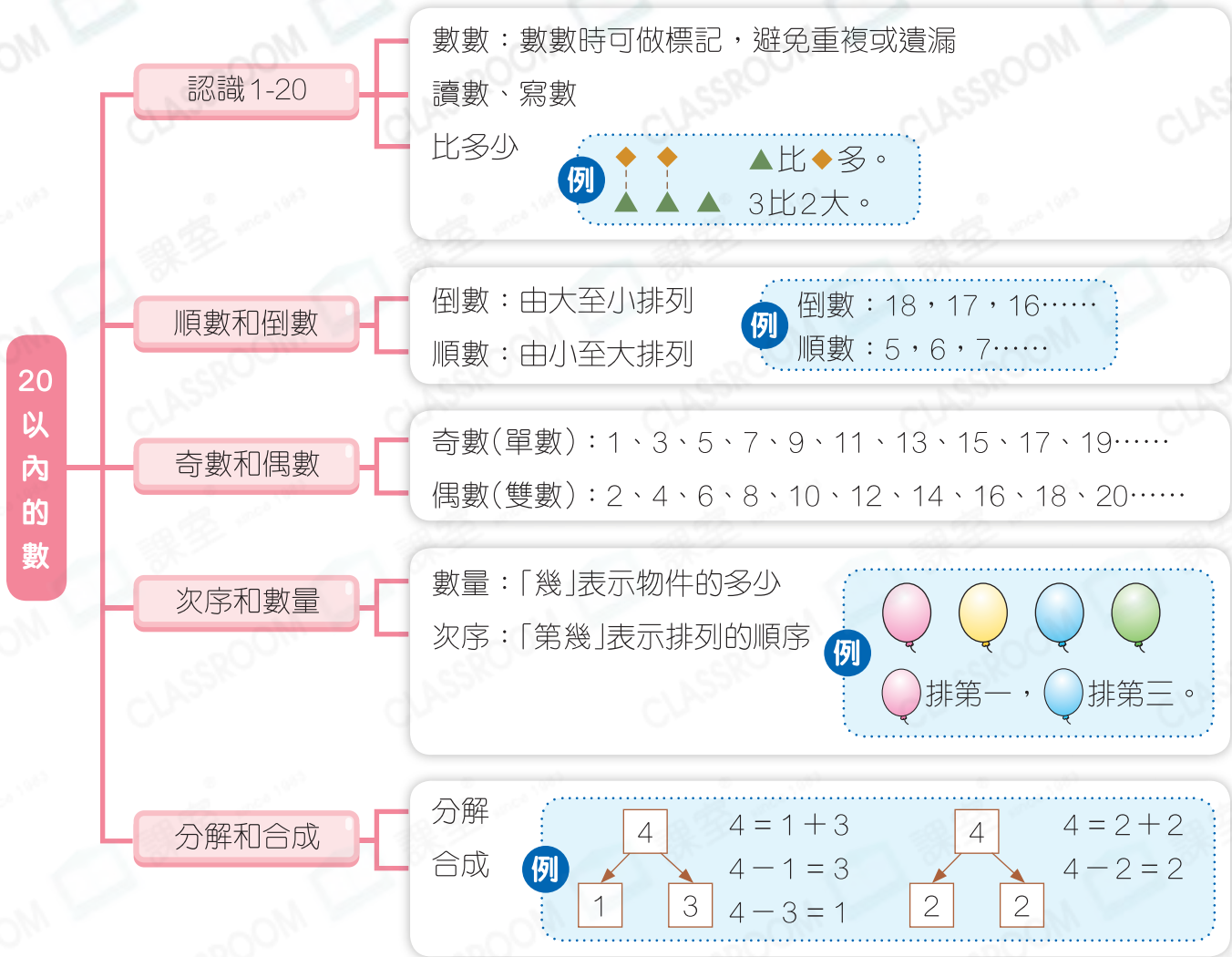


快速重溫 (一)

練習 1-7

數範疇





圖形與空間範疇





例 1



上圖中， 比  * 多 / 少 (* 圈出答案)。



- 邊數邊標記，數出有 5 塊  和 6 塊 。
- 從 1 開始數，越往後數越大，所以 6 比 5 大。



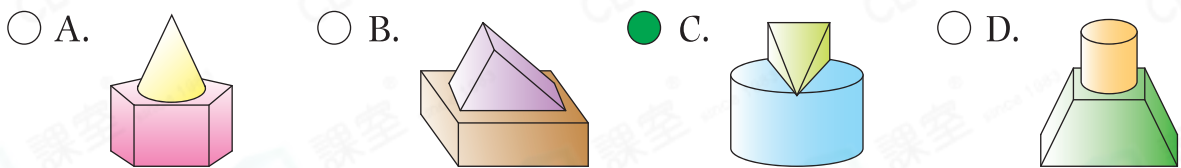
1.



上圖中，有 _____ 朵 ，比  * 多 / 少 (* 圈出答案)。

例 2

下列哪一幅圖是由角錐和圓柱砌成？



- 角錐：有尖頂，沒有曲面。
圓柱：兩端平平的，有曲面，能滾動。
- 根據立體圖形的特點，用剔除法找答案。



2. 下列哪一個立體圖形可能是角柱？

