

階段闖關 (一)

15分鐘

練習 1-7

計算下列各題。(6分，每題1分)

3分鐘

1. $35 - 18 =$ _____

2. $90 - 37 =$ _____

3. $203 + 366 =$ _____

4. $182 + 418 =$ _____

5. $81 - 24 - 22 =$ _____

6. $317 + 189 + 283 =$ _____

回答下列各題。(8分)

5分鐘

7. 在 567 這個數中，

(a) 十位數字是 _____。(1分)

(b) 數字「5」代表的數值是 _____。(1分)

8. 洛瑤有 3 盒右圖的髮圈。

(a) 共有 _____ 條髮圈。(1分)

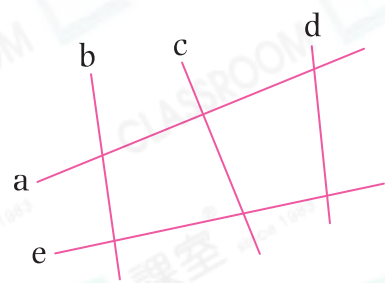
(b) 每 50 條髮圈分成一份，共可分成 _____ 份。(1分)



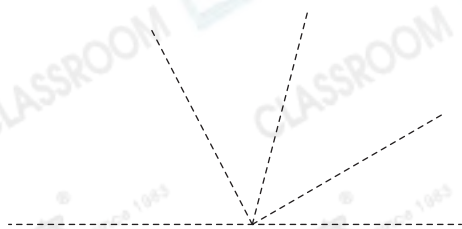
9. 一包手工紙，摺紙花先用去 85 張，餘下 42 張，摺紙鶴又用去 15 張，最後餘下 _____ 張手工紙。(1分)

10. 一鳴購買兩盒各售 229 元的拼圖後，還餘下 146 元，他原有 _____ 元。(1分)

11. 右圖中，直線 _____ 和直線 _____ 是一組垂直線。(1分)



12.



在左圖中，沿虛線畫出一個鈍角。(1分)

選出答案，把代表答案的○塗黑和塗滿。(3分，每題1分)  3分鐘

13. 下列哪一個數最小？

A. 八百九十九

B. 九百零八

C. 八百九十八

D. 八百八十九

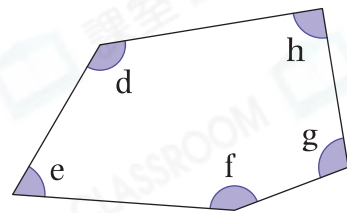
14. 觀察右圖，下列哪一項說法是錯誤的？

A. 角h是直角。

B. 角f比角g大。

C. 角e和角g是銳角。

D. 角g比角d小。



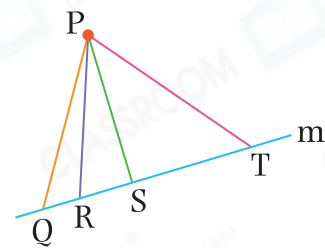
15. 右圖中哪一條線表示點P到直線m的距離？

A. PQ

B. PR

C. PS

D. PT



列式計算下列各題。(6分，每題3分)  4分鐘

16. 某小學有女童軍186人，佔童軍人數的一半，該小學有童軍多少人？

17. 爺爺今年66歲，爸爸在爺爺27歲時出生，爸爸比洛瑤大31歲，洛瑤今年多少歲？