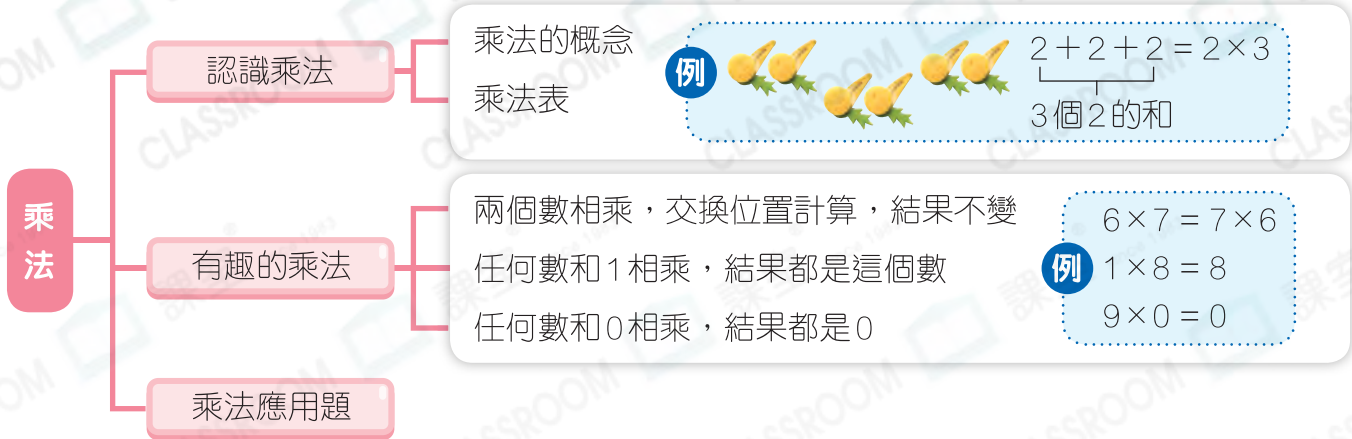


快速重溫 (二)

練習 8-14

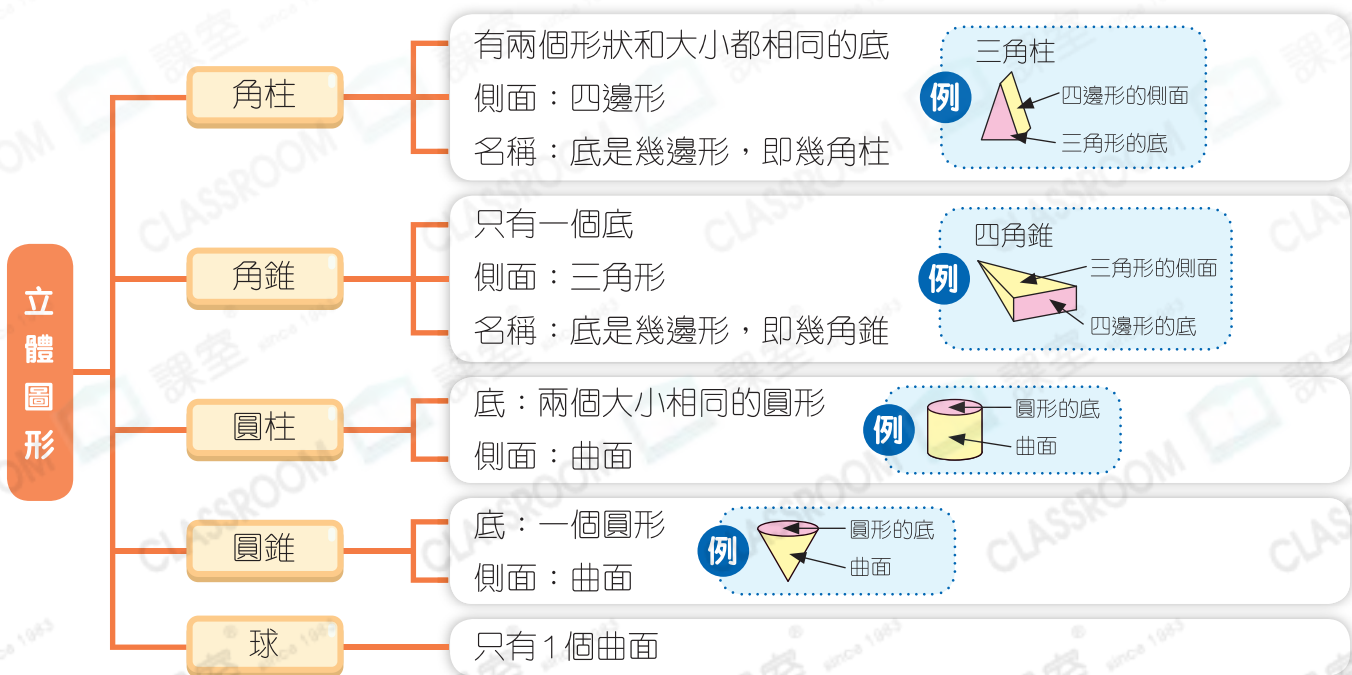
數範疇



度量範疇



圖形與空間範疇



例 1



7元



8元

書宇購買6個較便宜的蛋撻，他須付 42 元。



- 「購買較便宜的蛋撻」即購買每個售7元的蛋撻。
- 須付： $7 \times 6 = 42$ (元)

考考你

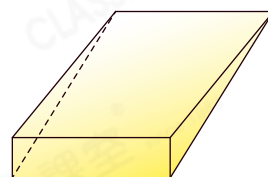
1.



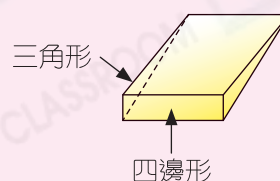
錦文買了4盒數量較多的巧克力，她買了 _____ 顆巧克力。

例 2

右圖是一個 * 角錐 / 角柱 (* 圈出答案)，它有 5 個面。



- 找出所有面及形狀：3個四邊形的面和2個三角形的面。
- 2個三角形的面是底，有兩個底的立體是角柱。



考考你

2. 右圖是一個 _____，它有 _____ 個 _____ 形的側面。

