

數 16 每200、250、500和1000個一數



要點導航


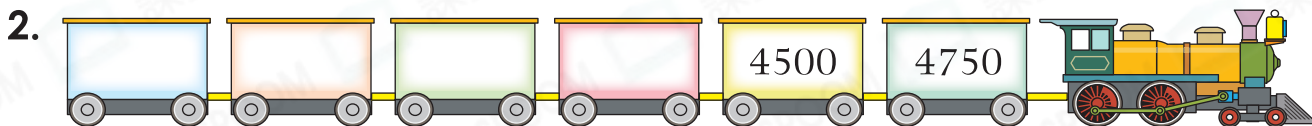

例




左圖共有 800 枚萬字夾。

每200個一數，每個數相差200。

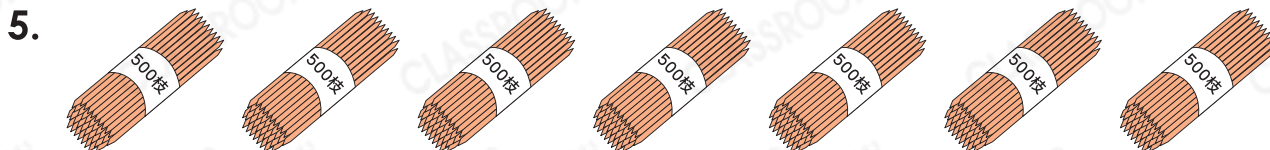
依規律，填數字。



數出下列各物件的總數量。



上圖共有 5000 塊拼圖。



上圖共有 3500 枝竹籤。



上圖共有 1250 個氣球。

家品店舉行積分換領禮品活動。

積分換領活動



250分積分



500分積分





1000分積分



3000分積分



7. 李太太的積分剛好可換領2張 。 李太太最終選擇用積分

換領 ，她可換領_____對 。

8. 陳太太換領6個 ，需要_____分積分。

9. 王太太有3000分積分，她剛好可以換領下列哪些物品？

答案：* 10個  / 6對  / 4張  (* 圈出答案)

10. 林太太換領1張  和3對 ，共需要積分多少分？

答案：_____分



能力挑戰館

11. 百貨公司印製了一些優惠券，由4月29日開始派發。

跨課題

(a) 印製的優惠券剛好可供每天派發200張。若每天派發500張，最後一天只須派發200張。百貨公司最少印製了_____張優惠券。

(b) 若每天派發250張，到5月2日止，已派出_____張優惠券。



解難題