

# 數 19 貨幣計算應用題



## 要點導航

例 12元3角 + 15元7角 = 28元

	元	角
	12	3
+	15	7
	28	0

滿10角進1到「元」

完成下列各題。



1. 購買牙膏和牙刷各一枝，共應付多少？

共應付：

28元5角 + 12元6角

= \_\_\_\_\_ 元 \_\_\_\_\_ 角

	元	角
	28	5
+	12	6
	<input type="text"/>	<input type="text"/>

2. 一枝牙膏比一枝牙刷貴多少？

一枝牙膏比一枝牙刷貴：

= \_\_\_\_\_ 元 \_\_\_\_\_ 角

	元	角
	28	5
-	12	6
	<input type="text"/>	<input type="text"/>

媽媽帶錦文乘港鐵去上學。

3. 成人和兒童的票價相差 \_\_\_\_\_ 元 \_\_\_\_\_ 角。

4. 她們購買成人票和兒童票各一張。

(a) 她們共須付 \_\_\_\_\_ 元 \_\_\_\_\_ 角。

(b) 媽媽用一張  買票，應找回

\_\_\_\_\_ 元 \_\_\_\_\_ 角。

從我家乘港鐵到學校，單程的兒童票價是7元8角，成人票價是13元5角。



錦文

5. 媽媽來回家和學校一次，總車費是 \_\_\_\_\_ 元 \_\_\_\_\_ 角。

日期

成績

一鳴和朋友们相約去逛玩具展。



\$26.70



\$21.80



\$7



\$17.90

6. 右圖是洛瑤購買玩具的收據。

(a) 波子棋的售價是多少？

答案：\_\_\_\_\_元\_\_\_\_\_角

(b) 應找回多少？

答案：\_\_\_\_\_元\_\_\_\_\_角





### 樂樂玩具店

物品	數量	金額
波子棋	1	\$7
七巧板	1	\$17.90
總金額		\$91.40
付款		\$96.40
找回		

7. 書宇購買2件相同的玩具，最少須付多少？(列式計算)

**請小心**  
留意價格越便宜，付款越少。

8. 一鳴有40元，他可以購買哪些玩具？(圈出答案)

2件  /  和  各一件 /  和  各一件



### 能力挑戰館

9.







\$8.60



\$9.90



解題

錦文付20元買  和  各一件，收銀員告訴她  正以特價發售，因此找回4元給她， 的特價是\_\_\_\_\_元\_\_\_\_\_角。