

階段闖關 (三)

15分鐘

練習 15-21

計算下列各題。(6分，每題1分)  3分鐘

1. $654 - 233 =$ _____

2. $408 - 199 =$ _____

3. $629 - 289 - 137 =$ _____

4. $516 - 325 - 118 =$ _____

5. $780 - 446 + 276 =$ _____

6. $293 + 457 - 540 =$ _____

回答下列各題。(8分)  5分鐘

7. 根據下列指示，寫出一個四位數。(1分)

數字「8」是在千位，數字「6」是在個位，
數字「1」是在百位，數字「3」是在十位。

--	--	--	--

8. 工廠每天生產 500 條裙子，一星期生產 _____ 條裙子。(1分)

9.



特價 \$25.60

~~\$28.90~~

(a) 一卷絲帶便宜了 _____ 元 _____ 角。(1分)

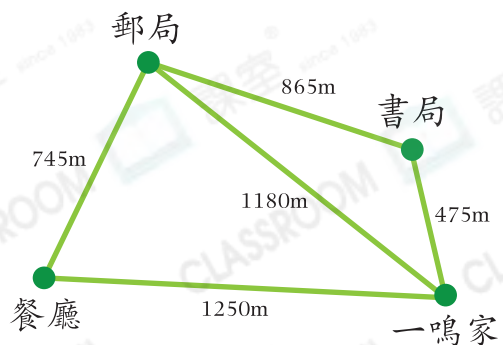
(b) 姊姊買兩卷絲帶，應付 _____ 元 _____ 角。(1分)

(c) 一卷絲帶長 10 米，姊姊把兩卷絲帶每 250 厘米分成一段，可以分成 _____ 段。(1分)

10. 1 張  可換得 _____ 張 。(1分)

11. (a) 一鳴家到 * 餐廳 / 郵局 / 書局
(* 圈出答案) 的距離最遠。(1分)

(b) 一鳴在家和書局之間來回一次，
他已走了 520 米，還要走
_____ 米。(1分)



選出答案，把代表答案的○塗黑和塗滿。(3分，每題1分)  3分鐘

12. 果園裏有500棵果樹，其中228棵已結果，未結果的果樹與已結果的相差多少棵？

A. 360棵

B. 272棵

C. 86棵

D. 44棵




13. 游泳池的深度約是多少？

A. 30厘米

B. 300厘米

C. 30米

D. 300米

14. 林太太付      購買了一件外套，這件外套的售價是多少？

A. 223元5角

B. 523元2角

C. 625元5角

D. 675元

列式計算下列各題。(6分，每題3分)  4分鐘

15. 渡輪限載625人，實際載了536人，有267人下船後，還有多少人？

16. 爸爸付500元買一條領帶，找回276元，後來店員發現多找了32元給他。這條領帶的售價是多少元？