

# 2 每20、25、50和100個一數

## 要點導航

例



每50個一數，每個數相差50。

上圖共有 200 枝飲管。

依規律，填數字。

- 
- 
- 

數出下列各物件的總數量。

- 

上圖共有 \_\_\_\_\_ 個橙。

- 

上圖共有 \_\_\_\_\_ 顆幸運星。

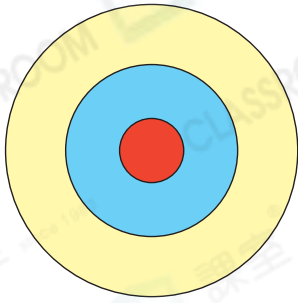
- 

上圖共有 \_\_\_\_\_ 枝棉籤。

日期

成績

智揚和哥哥、姊姊在玩飛鏢遊戲。



各顏色區域得分

紅色：50分

藍色：25分

黃色：20分

7. 擊中\_\_\_\_\_次紅色區域的得分和擊中4次藍色區域的相等。

8. 哥哥6次都擊中紅色區域，共得\_\_\_\_\_分。

9. 智揚共得150分，他可能擊中

A. 4次紅色區域。

B. 6次藍色區域。

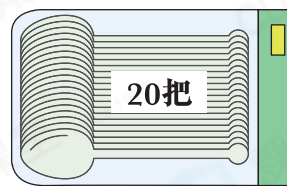
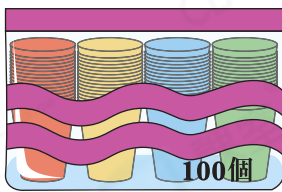
C. 7次黃色區域。

D. 4次藍色區域和3次黃色區域。

10. 姊姊擊中1次紅色區域和5次藍色區域，共得多少分？

答案：\_\_\_\_\_分

雪糕店購入一批紙杯和勺子。



11. (a) 雪糕店共購入6袋紙杯，即購入\_\_\_\_\_個紙杯。

(b) 一袋紙杯有四種顏色，每種顏色的紙杯數量相等，即每種顏色的紙杯有\_\_\_\_\_個。

(c) 這次共購入了\_\_\_\_\_個綠色紙杯。

12. 雪糕店原有100把勺子，又購入4袋勺子後，現有勺子多少把？

答案：\_\_\_\_\_把