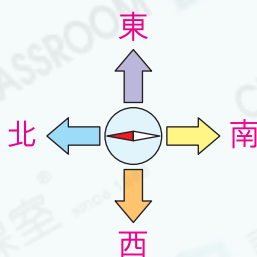


圖形與空間 25 四個方向



要點導航

例 右圖中，紫色箭頭指向
 _____ 方。

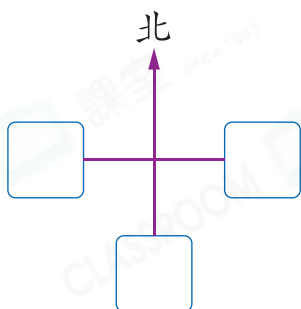


指南針着色的一端指向
 北方。

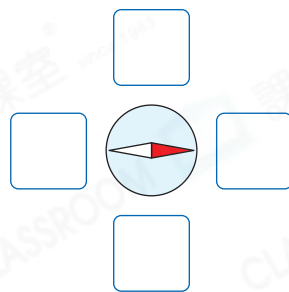
從北方開始，依順時針，依
 次是東方、南方、西方。

在 內填上適當的方向。

1.



2.

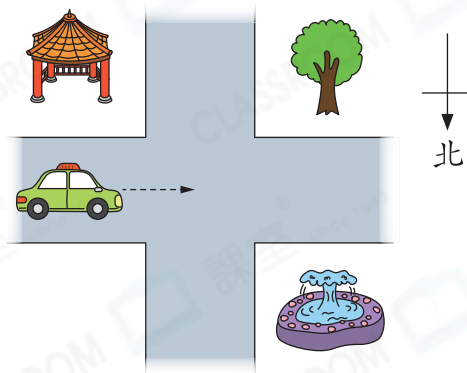


根據右圖，在 _____ 上填答案。

3.  正向 _____ 方行駛。

4.  在  的 _____ 方。

5.  在  的 _____ 方。



錦文和哥哥在玩拼英文生字遊戲。

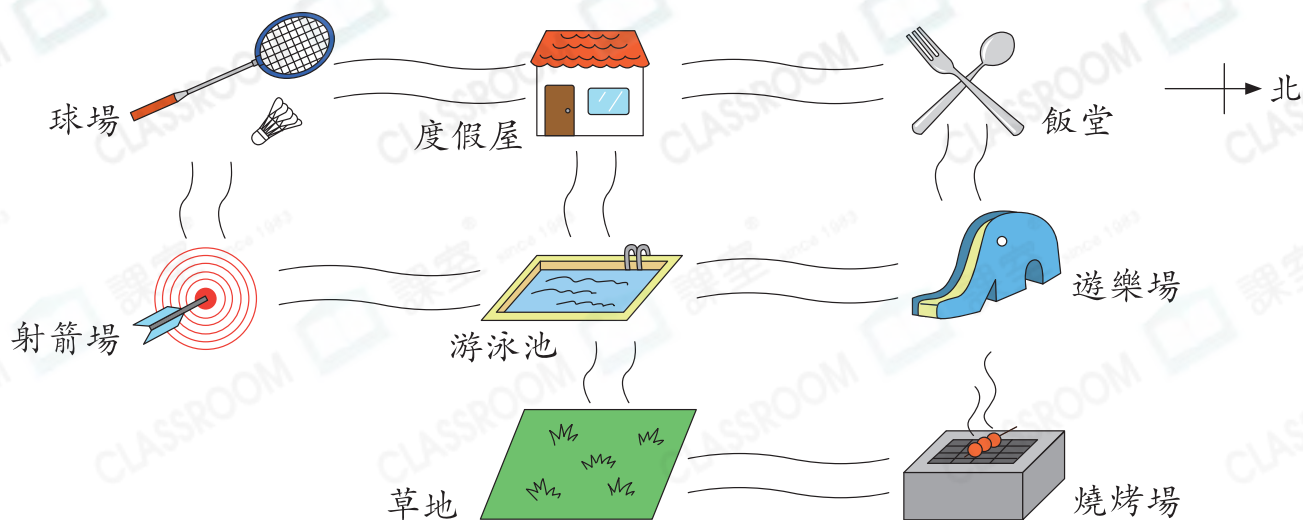
6. 依次把E的南方、東方和西方的三個字母拼
 成一個英文生字是 _____。

7. 「第一個字母在B的西方，第二個字母在G
 的東方，第三個字母在E的北方」，這個英
 文生字是 _____。



I	A	F
G	E	B
O	D	P

一鳴和家人在假期去度假村玩。



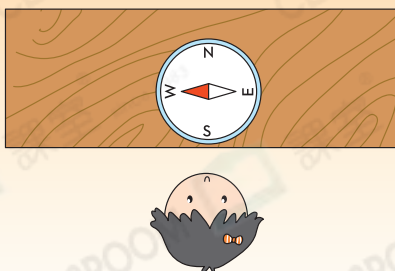
8. 球場在飯堂的_____方。
9. 燒烤場在_____的東方。
10. 由草地出發，只要一直向_____方走便可回到度假屋。
11. 一鳴發現游泳池在他的東方，他可能在地圖中哪一個位置？
- 答案：_____
12. 媽媽由游泳池前往飯堂，她應先向_____方走，經過_____，再往_____方走便可到達。

解題金鑰匙

「游泳池在他的東方」即他在游泳池的西方。

能力挑戰館

13.



洛瑤把指南針平放在桌面的時候，指南針着色的指針指着北方，那麼她望向_____方。