



要點導航

例

顏色不相同的邊是相連的，稱為鄰邊。



顏色相同的邊是不相連的，稱為對邊。


AD和BC是一組對邊。

AB和CD是一組對邊。

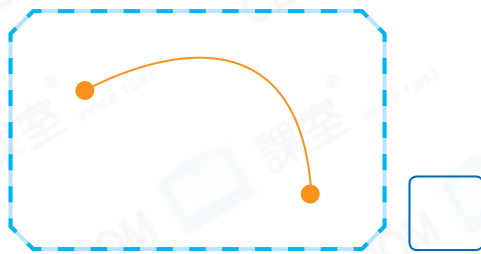
AD和BC都是AB的鄰邊。

觀察下列各圖，是線段的，在□內加上「✓」；不是的，加上「×」。


1.




2.



3.




4.



依指示給線段塗上顏色。

5. 一組對邊



6. 一組鄰邊



完成下列各題。



7. 左圖有_____條線段。

8. 左圖有_____組對邊。

9. 左圖的每一條邊都有_____條鄰邊。

錦文正在教導妹妹數學知識。



上圖可數出_____條線段。



留意不要多數了最左邊和最右邊的兩段線。

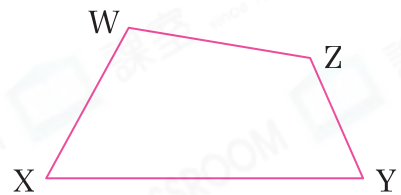


上圖中，* 紫色線 / 綠色線 / 橙色線 是一條線段，它的長度 * 最長 / 最短。(* 圈出答案)

12. 右面的四邊形中，

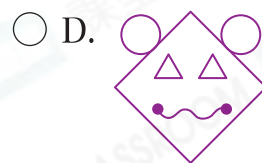
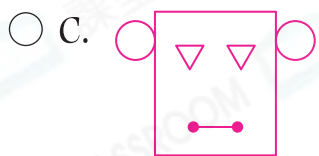
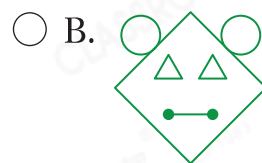
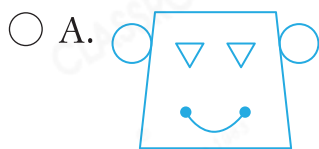
(a) WX的對邊是_____。

(b) WX的鄰邊是_____和_____。




洛瑤正在製作心意卡，她在卡上畫各種圖案。

13. 洛瑤畫了一個頭像，一條線段表示嘴，兩個圓形表示耳朵，耳朵在四邊形的一組對邊上。下列哪一個圖案可能是她畫的？



14. 右圖是洛瑤畫的一盆花。

(a)  表示葉子，它由_____條線段組成。

(b) 在表示花朵的  的一組鄰邊上，畫上  表示花瓣。

