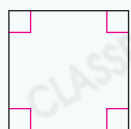




要點導航


例



正方形

四個角都是直角。

四邊長度相等。



長方形


四個角都是直角。

對邊長度相等。

依指示，圈出所有答案。

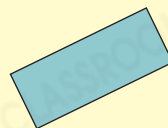

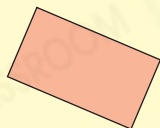
1.

正方形




2.

長方形




在下列各圖中加上三條線段，與原有的線段組成指定的圖形。

3. 正方形

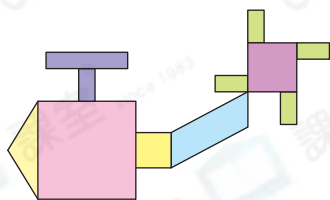


4. 長方形



一鳴用各種形狀的顏色紙拼砌美麗的圖案。

5.



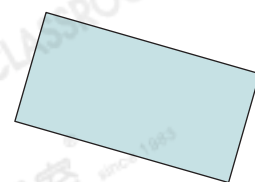
一鳴拼砌了一架飛機。

(a) 左圖中，有 _____ 個正方形。

(b) 左圖中，有 _____ 個長方形。

6. 拼砌圖案後，餘下右圖 _____ 形顏色紙，
這張顏色紙的* 四邊 / 兩組對邊 長度相等。

(* 圈出答案)



日期

成績

錦文在整理家裏的一些物件。



福字門貼



賀卡



八達通



手工紙



杯墊

7. 福字門貼有_____個直角。

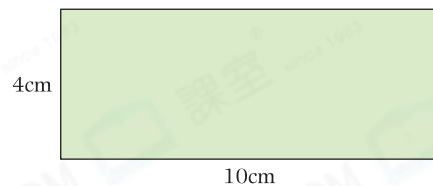
8. * 賀卡 / 八達通 / 手工紙 (* 圈出答案) 的四邊長度相等。

9. 上圖共有正方形物件多少件？

答案：_____件

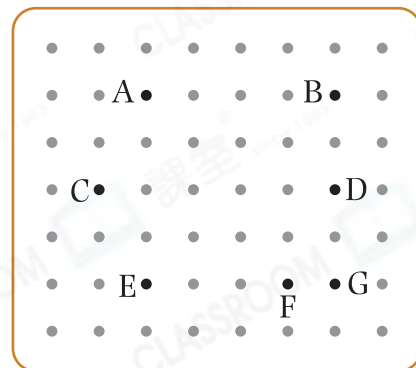
書宇用不同的方式製作正方形和長方形。

10. 書宇從右圖的手工紙上剪出一個最大的正方形，這個正方形的邊長是_____cm。



11. 書宇應選用右圖釘板上的哪四點才可圍出一個長方形？寫出代表答案的英文字母。

答案：_____點、_____點、
_____點、_____點



12. 竹籤A  竹籤B 

書宇有4枝竹籤A和1枝竹籤B，他想砌長方形和正方形各一個，最少須添加各類材料多少？

答案：_____枝竹籤A和_____枝竹籤B