

# 28 象形圖



## 要點導航

例

四名學生做義工的次數

每個👍代表1次



洛瑤 書宇 一鳴 錦文

標題

每個圖案代表的數量

統計的項目

完成下列各題。

1. 家裏有\_\_\_\_\_個奇異果。


家裏各種水果的數量

每個圖案代表1個

2. 哪一種水果的數量最多？

- A. 蘋果                      ○ B. 梨  
○ C. 橙                         ○ D. 奇異果


3. 家裏蘋果的數量是梨的\_\_\_\_\_倍。



老師統計了2A班學生最喜愛的飲品。

2A班學生最喜愛的飲品

每個😊代表1人



4. 最喜愛喝\_\_\_\_\_和\_\_\_\_\_的學生人數相同。

5. 統計當天，有2人缺席投票，2A班共有\_\_\_\_\_人。

一鳴的爸爸往水族箱中放入許多魚。



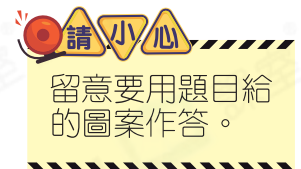
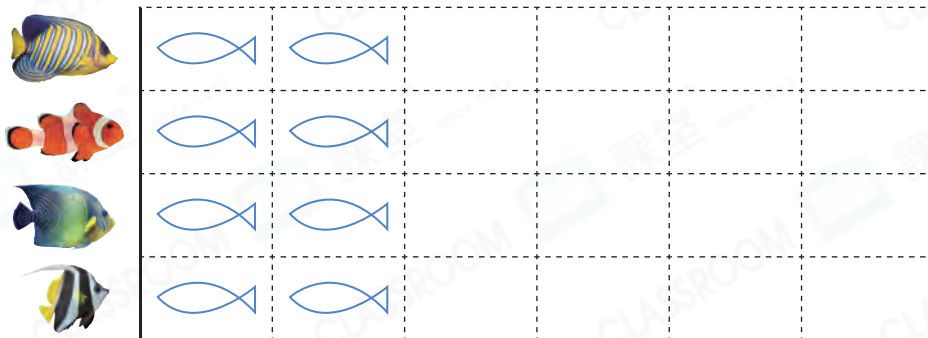
6. 根據上圖，完成以下表格。

魚				
數量(尾)				

7. 根據完成後的表格，完成下列象形圖。

放入水族箱的魚

每個  代表 1 尾



錦文正在整理書架上的小說。

8. 書架上共有小說多少本？

答案：\_\_\_\_\_ 本

9. 科幻小說比武俠小說\* 多 / 少

(\* 圈出答案) \_\_\_\_\_ 本。


10. \_\_\_\_\_ 小說的數量是歷史小說的 3 倍。

11. 有多少種小說的數量超過 4 本？

答案：\_\_\_\_\_ 種

書架上各類小說的數量

每個  代表 1 本



偵探

科幻

武俠

歷史