

姓名：\_\_\_\_\_

班別：\_\_\_\_\_ ( )

# 考試 (一)

範圍：練習1-14

成績

/ 35

限時

30分鐘

1. 在268這個數裏，數字「2」代表的數值是  
\* 2 / 20 / 100 / 200 (\*圈出答案)。(1分)

2.  $584 + 269 =$  \_\_\_\_\_ (1分)

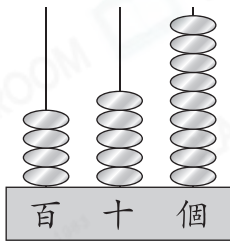
3.  $77 - 25 - 27 =$  \_\_\_\_\_ (1分)

4.  $8 + 8 + 8 = 8 \times$  \_\_\_\_\_ (1分)

5.  $9 \times 1 =$  \_\_\_\_\_ (1分)

6. 把下列各數由大至小排列。(用阿拉伯數字作答)(1分)

(a)

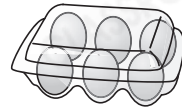


(b) 四百九十五

(c) 534

答案：\_\_\_\_\_， \_\_\_\_\_， \_\_\_\_\_  
(最大) (最小)

7. 家裏有9盒右圖的雞蛋，即家裏有  
\_\_\_\_\_ 隻雞蛋。(1分)



8. 陳先生將去韓國公幹3個星期，共公幹多少天？(列式計算)(3分)

9. 書宇每月儲蓄50元，他半年共儲蓄\_\_\_\_\_元。(1分)
10. 一個鞋櫃有5層，每層只放了4雙女鞋，這個鞋櫃共放了\_\_\_\_\_雙男鞋。(1分)

11. 右表顯示洛瑤數學測驗的成績。

(a) 洛瑤在乙部的得分是

\_\_\_\_\_分。(1分)

(b) 洛瑤在甲部被扣去

\_\_\_\_\_分。(1分)

	滿分	得分
甲部	60	48
乙部	40	
全卷	100	84

12. 老師把2C班的學生每4人分成一組，可以分成6組。如果每6人分成一組，可以分成\_\_\_\_\_組。(1分)
13. 一盒圖釘有125枚，一盒萬字夾有160枚。購買兩盒萬字夾，共得萬字夾多少枚？(列式計算)(3分)

14. 花店今天購入一批玫瑰，上午售出76枝，下午售出92枝後，餘下135枝。花店共購入\_\_\_\_\_枝玫瑰。(1分)
15. 一袋氣球有60個，其中紅色22個，藍色15個，其餘是綠色。
- (a) 有\_\_\_\_\_個綠色氣球。(1分)
- (b) 給每人分8個氣球，這袋氣球\* 足夠 / 不足夠 (\*圈出答案)分給7人。(1分)

16. 智揚在



開始拼圖，他用了25分鐘完成拼圖，他在

\_\_\_\_\_時\_\_\_\_\_分完成拼圖。(1分)

17. 錦文在



開始做運動。

(a) 錦文在\_\_\_\_\_午\_\_\_\_\_時\_\_\_\_\_分開始做運動。(1分)

(b) 錦文在



結束做運動，共用了\_\_\_\_\_分鐘。(1分)

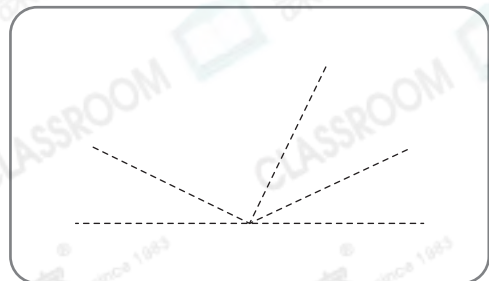
18.

十一月						
日	一	二	三	四	五	六
				1	2	3
4	5	6	7	8	9	10
11	12	13	14	15	16	17
18	19	20	21	22	23	24
25	26	27	28	29	30	

(a) 十月三十日是星期\_\_\_\_\_。(1分)

(b) 繪畫展於十一月的第三個星期二開始，一連3天舉行，繪畫展在\_\_\_\_\_月\_\_\_\_\_日結束。(1分)

19. 在右圖中，沿虛線畫出最大的銳角。(1分)

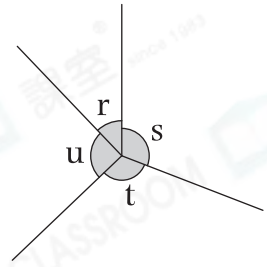


20. 右圖中，

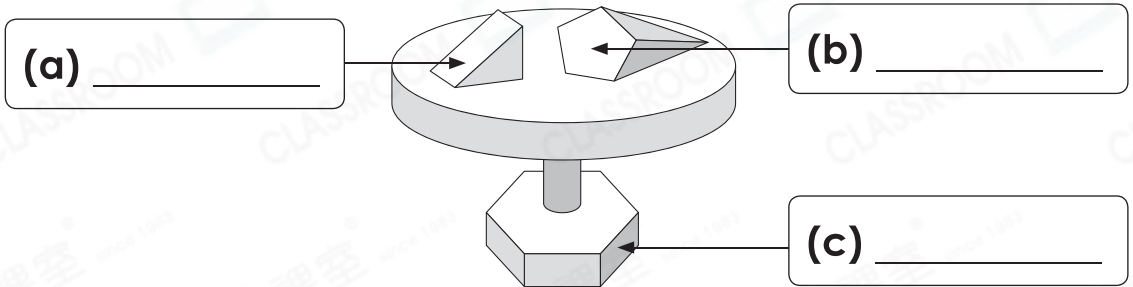
(a) 角 \* r / s / t / u 是鈍角。(1分)

(\* 圈出所有答案)

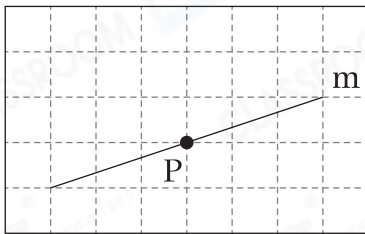
(b) 角 \_\_\_\_\_ 最小。(1分)



21. 下面的擺設是由不同的立體圖形組成。在空格內寫上它們的名稱。(3分，每分題1分)

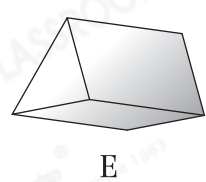
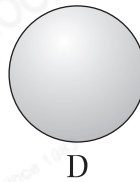
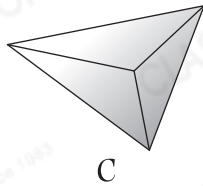
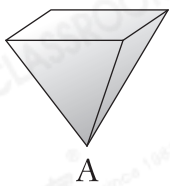


22.



在左圖中畫出一條直線，使它經過點P並與直線m相互垂直。(1分)

23. 觀察下面的立體圖形，寫出所有代表答案的英文字母。



列出：

(a) 側面是三角形的立體圖形：\_\_\_\_\_ (1分)

(b) 有曲面的立體圖形：\_\_\_\_\_ (1分)

— 考試完 —