

姓名：\_\_\_\_\_

班別：\_\_\_\_\_ ( )

# 考試 (二)

範圍：練習1-28

成績

/ 36

限時

30分鐘

1. 下列哪一個數的千位數字是「3」，而百位數字是「8」？(1分)

- A. 348       B. 386       C. 3826       D. 6388

2. 寫出一個比974大，又比1014小的四位單數。(1分)

答案：\_\_\_\_\_

3.  $487 - 96 + 478 =$  \_\_\_\_\_ (1分)

4.  $756 - 498 =$  \_\_\_\_\_ (1分)

5. 65除以7，商是\_\_\_\_\_，餘數是\_\_\_\_\_。(1分)

6. 以下是快餐店昨天三款套餐的銷量。

套餐	A餐	B餐	C餐
銷量	118個	292個	114個

(a) 比較銷量最高和最低的套餐的銷量，相差\_\_\_\_\_個。(1分)

(b) 快餐店昨天這三款套餐的總銷量是\_\_\_\_\_個。(1分)

7. 裝完50個蜜瓜，最少需要右圖的箱子多少個？(列式計算)(3分)



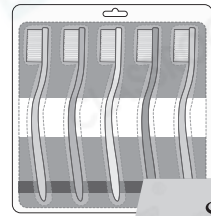
8. 購物每滿200元可獲得一個印花。李太太消費了1300元，她最多可獲得\_\_\_\_\_個印花。(1分)

9. 學校有337名女學生和415名男學生。今天有26名學生缺席，今天學校共有\_\_\_\_\_名學生。(1分)

10. (a) 平均每枝牙刷售多少元？(1分)

答案：\_\_\_\_\_元

(b) 洛瑤購買了3件右圖的牙刷套裝，即購買了\_\_\_\_\_枝牙刷。(1分)



\$45

11. 圖書館有572本日文書，借出235本後，又歸還了128本，現在有日文書多少本？(列式計算)(3分)

12. 鳳凰山高934m，比大東山高65m，而太平山比大東山矮317m。太平山高\_\_\_\_\_m。(1分)

13.



特價\$41.80

~~\$46.50~~

(a) 杯子的特價比原價便宜了\_\_\_\_\_元\_\_\_\_\_角。(1分)

(b) 一鳴購買2個杯子，應付多少？圈出一鳴應付的金額。(1分)




14.



智揚的身高是  $1\text{m}15\text{cm}$ ，洛瑤的身高是  $1\text{m}33\text{cm}$ ，錦文的身高可能是 (1分)

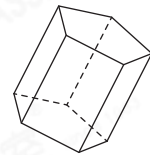
- A.  $105\text{cm}$ 。     B.  $125\text{cm}$ 。     C.  $135\text{cm}$ 。     D.  $145\text{cm}$ 。

15. (a) 新聞在  $6:30 \text{ p.m.}$  開始播放，那時是\_\_\_\_\_午  
\_\_\_\_\_時\_\_\_\_\_分。(1分)

(b) 新聞在  播放完畢，新聞長\_\_\_\_\_分鐘。(1分)

16. 今年的6月29日是星期五，7月1日是星期\_\_\_\_\_。(1分)


17. 右圖是一個\* 五角柱 / 五角錐 (\*圈出答案)。  
它有\_\_\_\_\_個\_\_\_\_\_形的側面。(1分)



18. (a) 右圖由\_\_\_\_\_條線段組成。(1分)

(b)  $DC =$  \_\_\_\_\_  $\text{cm}$ 。(1分)

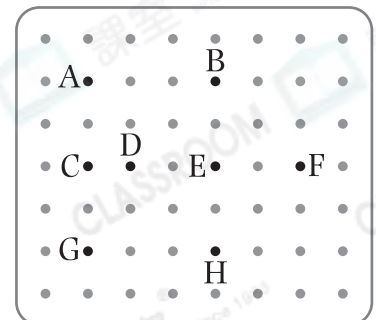
(c)  $AD$  是\_\_\_\_\_的鄰邊。(1分)



19. 書字選取右圖中哪四點可圍出一個正方形？寫出代表答案的英文字母。(1分)

答案：\_\_\_\_\_點、\_\_\_\_\_點、

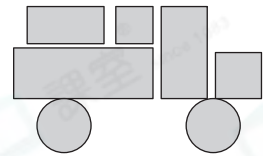
\_\_\_\_\_點、\_\_\_\_\_點



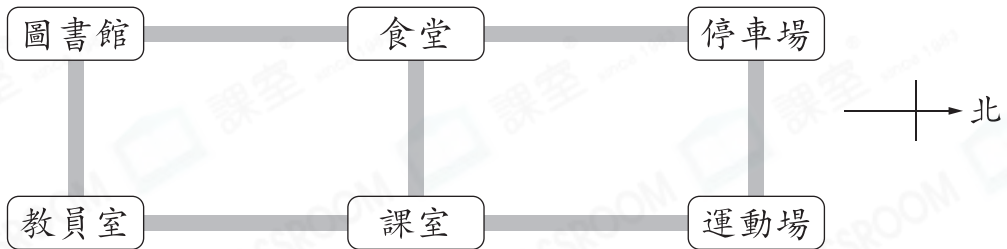
20. 錦文用不同的平面圖形設計了一輛車。

(a) 右圖有 \_\_\_\_\_ 個長方形。(1分)

(b) 右圖有 \_\_\_\_\_ 個正方形。(1分)



21. 以下是課室學校部分設施的位置圖。



(a) 李老師從運動場一直向 \_\_\_\_\_ 走，便可到達教員室。(1分)

(b) 食堂的東方是 \* 圖書館 / 課室 / 停車場 (\* 圈出答案)。(1分)

22. 以下是洛瑤製作的象形圖，但她忘了在「九龍」一項畫上圖案。

2B班學生的居住地區

一個  代表1人

新界									
九龍									
香港島									
離島									

(a) 2B班共有學生28人，完成上面的象形圖。(1分)

(b) 住在 \_\_\_\_\_ 的學生最多，有 \_\_\_\_\_ 人。(1分)

(c) 住在香港島的學生中，有半數乘搭港鐵上學。即有 \_\_\_\_\_ 名住在香港島的學生乘搭港鐵上學。(1分)

— 考試完 —