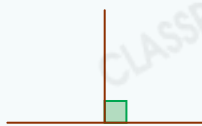
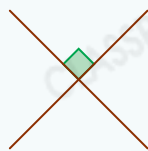
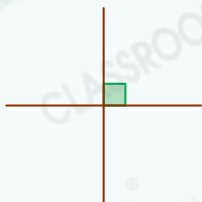




要點導航

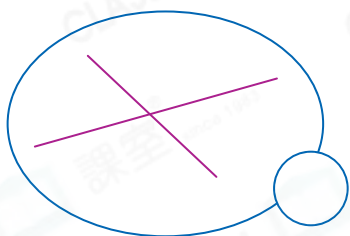
例



若兩條直線形成直角，這兩條直線便是一組垂直線

判斷下列各組直線，是垂直線的，在○內加上「✓」；不是的，加上「x」。

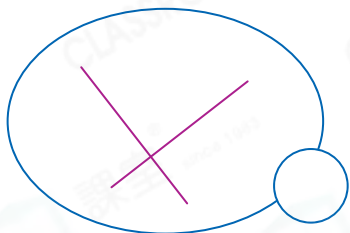
1.



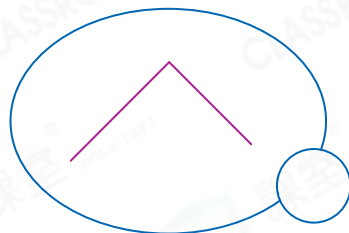
解題金鑰匙

可用有直角的物件輔助判斷。

2.

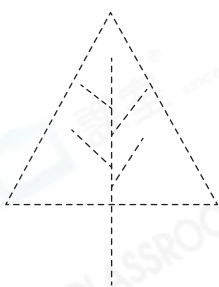


3.




沿虛線畫出所有垂直線。

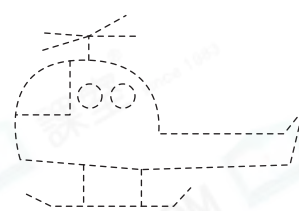
4.



5.

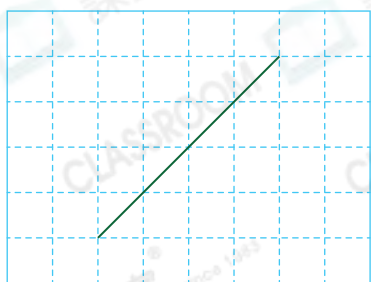


6.

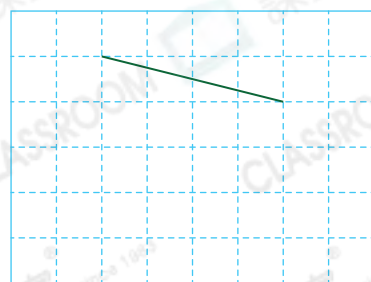


在方格紙上加畫一條直線，使它與原來的直線垂直。

7.




8.




書宇的叔叔租用了一塊花田。

9. 叔叔想在花田和河流之間修一條最短的水渠。在右圖中畫線表示這條水渠。

花田



10.

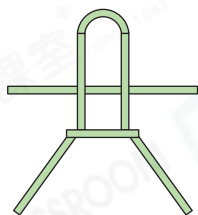


叔叔在花田中修築了五條小徑，其中* 歡樂小徑 / 繽紛小徑 和向陽小徑相互垂直。(* 圈出答案)

爸爸在教錦文三兄妹做風箏。

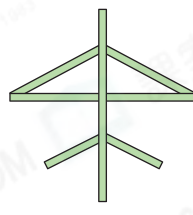
11. 每個風箏骨架中有多少組互相垂直的竹條？分別寫出它們的數量。

(a)



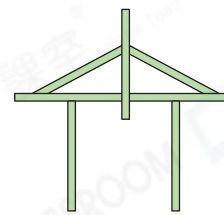
_____ 組

(b)



_____ 組

(c)



_____ 組

12. 錦文製作的風箏中沒有垂直線，下列哪一個是她製作的風箏？


○ A.



○ B.



○ C.



○ D.

