

# 度量

# 11 克和公斤



## 要點導航

**例** 最適用 \* (g) / kg 作為重量的量度單位。  
(\* 圈出答案)

「g」是量度較輕物件的單位。  
「kg」是量度較重物件的單位。

估計物件的實際重量，圈出正確的答案。

1.



6g / 60g

2.



55g / 550g


3.



4kg / 40kg


在橫線上寫出各物件的重量。

4.



\_\_\_\_\_ g

5.




\_\_\_\_\_ kg

6.



\_\_\_\_\_ kg

選出最適合的量度工具，並在空格內加上「✓」。



7. 媽媽的體重

8. 一個冬瓜的重量

9. 一部智能電話的重量


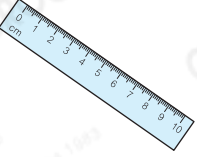

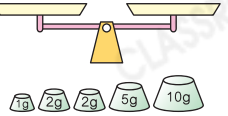


日期


成績

雲伊和媽媽去超級市場購物。

10. 下列哪一種工具最適合用來量度一部計算機的重量？



- A. 
 B. 
 C. 
 D. 

11.



的重量是\_\_\_\_\_。  
(答案須寫上單位)

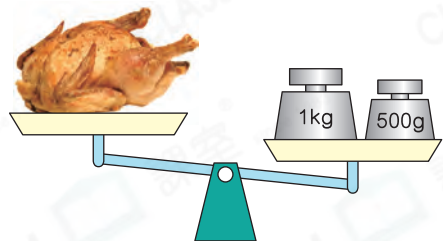
12.



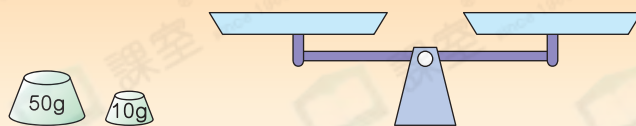
\*  /  (\*圈出答案)較重，它比另一種水果重\_\_\_\_\_克。

13.  的重量可能是多少？

- A. 2kg                       B. 1800g  
 C. 1600g                     D. 1kg



14.



現有 250 克米，利用上圖的工具稱出 85 克米。

答案：第一次稱出\_\_\_\_\_克米，第二次從已稱出的米中再稱出  
\_\_\_\_\_克米，即可得到 85 克米。

 能力挑戰館

