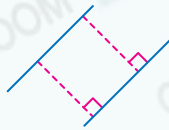
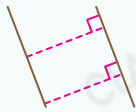


12 平行線



要點導航


例



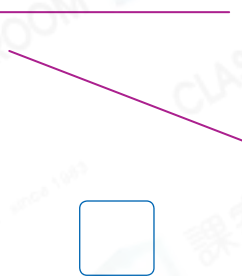
兩條直線的距離不變，沒有相交點，便是平行線。

判斷下列各組線，是平行線的，在 內加上「✓」；不是的，加上「×」。

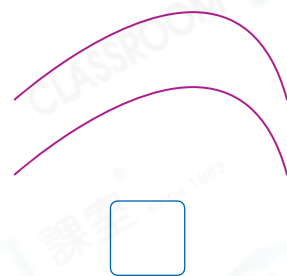
1.



2.

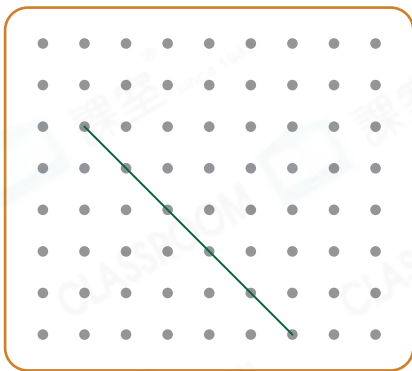


3.

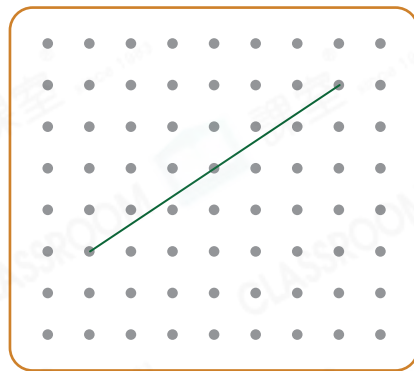


在各圖中加畫一條直線，使它與原有的直線平行。

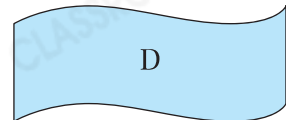
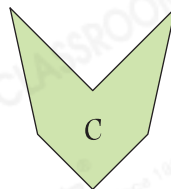

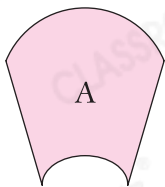
4.



5.



嘉盈做手工餘下了以下的手工紙。



6. 手工紙 _____ 中既有平行線，又有垂直線。

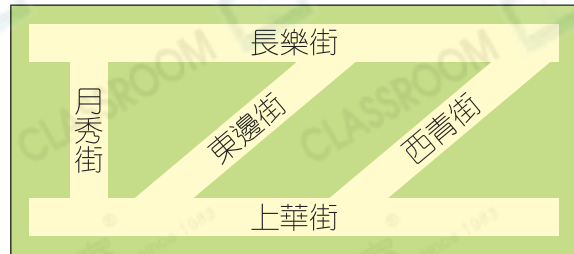
7. 手工紙 C 中有 _____ 組平行線。

8. 手工紙 _____ 中平行線的組數最少。

雲伊在尋找生活中有平行線的物件。

9. 在地圖中，哪一條街道與東邊街平行？

答案：_____街



10. 根據指示，寫出所有代表答案的英文字母。

P



Q



R



S



有平行線的警告標誌：_____

- 11.



在左圖賀卡上，有平行線的英文字母有多少個？

- A. 2個 B. 3個
 C. 4個 D. 5個

12. 觀察以下生活用品，圈出所有有平行線的生活用品。



STEAM 探索營

- 13.



知多點

青馬大橋主跨長 1377 米，是全球第二長的行車鐵路雙用懸索式吊橋，也是全球第十三長以懸索吊橋形式建造的吊橋。

在青馬大橋上，吊起大橋橋身的鋼絲中，每組相鄰的兩條鋼絲是一組* 垂直線 / 平行線。（*圈出答案）