

階段闖關 (二)

15分鐘

練習 8-14

計算下列各題。(6分)

3分鐘

1. $36 \div 3 =$ _____

2. $90 \div 8 =$ _____

3. $127 \div 5 =$ _____

4. $856 \div 8 =$ _____

5. $120 \div 5 \div 8 =$ _____

6. $405 \div 9 \div 3 =$ _____

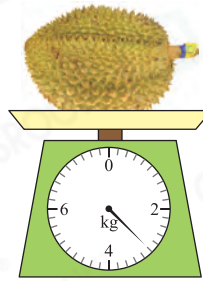

回答下列各題。(8分)

5分鐘



7. 鞋店上星期共售出 392 雙鞋，平均每天售出 _____ 雙鞋。(1分)

8. 每名學生需要 7 張手工紙，130 張手工紙足夠派給 _____ 名學生。(1分)

9.

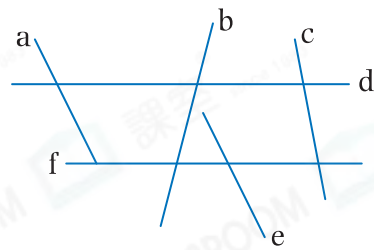


(a)  的重量是 _____ g。(1分)

(b)  比  * 輕 / 重 (* 圈出答案) _____ g。(1分)

10. (a) 在右圖中，和直線 a 相互平行的是直線 _____。(1分)

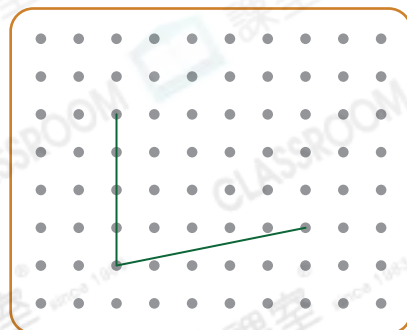
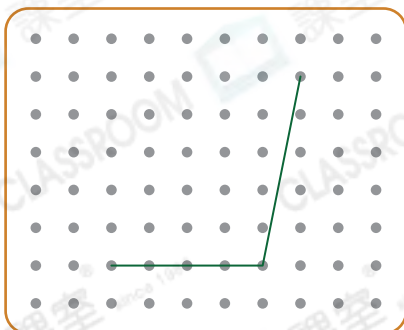
(b) 右圖共有 _____ 組平行線。(1分)



11. 在下列各圖加上直線，使它與原有的直線組成指定的四邊形。(2分，每分題 1分)

(a) 梯形

(b) 平行四邊形

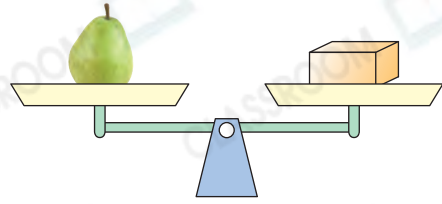
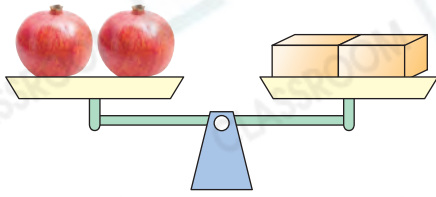


選出答案，把代表答案的○塗黑和塗滿。(3分，每題1分)



3分鐘

12.



細閱上圖，以下哪一項是正確的？

- A. 比 重。
 B. 比 輕。
 C. 和 的重量相等。
 D. 無法比較 和 的重量。

13. 以下哪一個四邊形是平行四邊形的一種？

- A. B. C. D.

14. 正方形和平行四邊形有以下哪一種共同性質？

- A. 最少有一個直角 B. 四邊相等
 C. 對邊平行 D. 四角相等

列式計算下列各題。(6分，每題3分)



4分鐘

15. 有86名學生參加露營，最少需要六人帳篷多少個才足夠容納所有學生？



16. 每個代幣的售價為9元，每局射擊遊戲需要3個代幣。永樂有135元，他最多可玩射擊遊戲多少局？

