


數 21 分數的認識(一)



要點導航

例



着色部分佔全圖的 $\frac{5}{8}$ 。

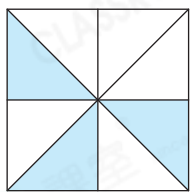
分子(着色的格數)

分數線

分母(全部的格數)

寫出下列各圖中着色部分佔全圖的分數，並寫出分數的讀法。

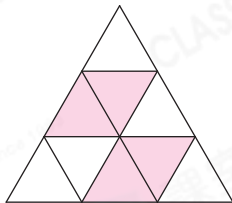
1.



寫作： $\frac{\quad}{\quad}$

讀作：_____

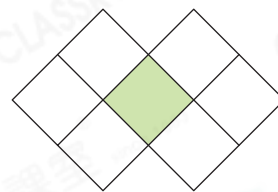
2.



寫作： $\frac{\quad}{\quad}$

讀作：_____

3.

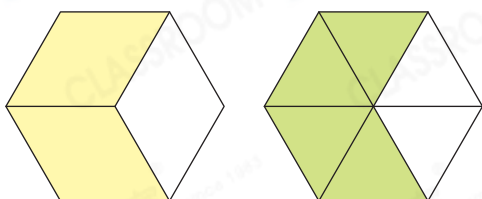


寫作： $\frac{\quad}{\quad}$

讀作：_____

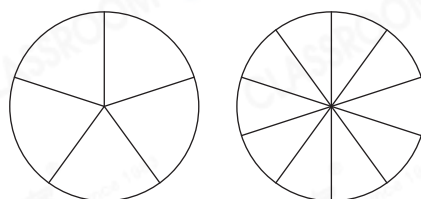
下列各圖中的着色部分佔全圖的幾分之幾？在空格內填寫答案。

4.



$\frac{\quad}{\quad} = \frac{\quad}{\quad}$

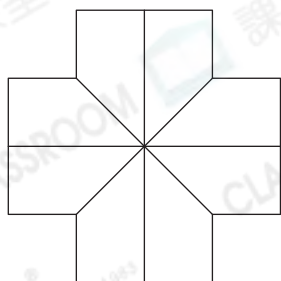
5.



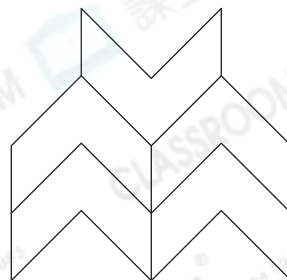
$\frac{\quad}{\quad} = \frac{\quad}{\quad} = 0$

依分數，在圖形適當的部分填上顏色。

6. $\frac{5}{8}$




7. $\frac{3}{3}$



中秋節，嘉盈一家邊吃月餅邊賞月。

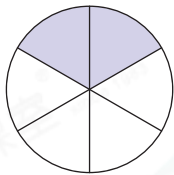
8. 媽媽把一個伍仁月餅平均分成4件，嘉盈吃了3件。

嘉盈吃了整個月餅的 $\frac{\quad}{\quad}$ 。

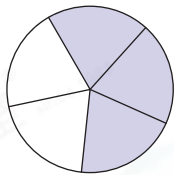


9. 媽媽吃了 $\frac{3}{8}$ 個冰皮月餅。下列哪一個圖的着色部分代表媽媽吃去冰皮月餅的分量？

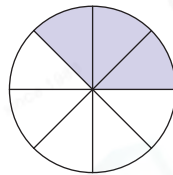
A.



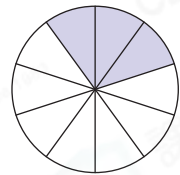
B.



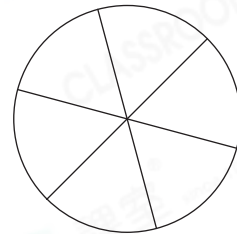
C.



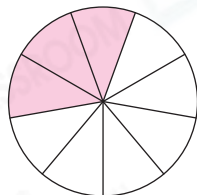
D.



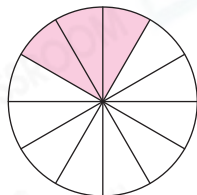
10. 爸爸吃了一個奶黃月餅的二分之一，在右圖適當的部分填上顏色代表爸爸吃去奶黃月餅的分量。



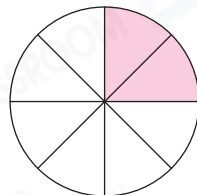
11.



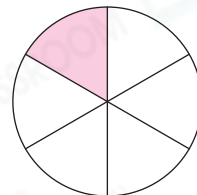
媽媽



爸爸



妹妹



嘉盈

以上各圖着色部分分別代表每人吃什錦月餅的分量。其中 _____ 和 _____ 吃什錦月餅的分量相同。



能力挑戰館

12.



如上圖所示，把一張白色紙條對摺3次後，並在其中一面塗

上顏色。着色部分佔整張紙條的 $\frac{\quad}{\quad}$ 。

