



數 22 分數的認識(二)



要點導航

例



 佔全部花朵的 $\frac{4}{9}$ 。

分子( 的數量)


分母(全部花朵的數量)

在空格內填上答案。




 佔全部髮夾的 $\frac{\quad}{\quad}$ 。



 佔全部巧克力的 $\frac{\quad}{\quad}$ 。

圈一圈，並在橫線上填上答案。



10 的 $\frac{3}{5}$ 是 _____。



12 的 $\frac{2}{3}$ 是 _____。

嘉盈和妹妹在沙灘拾到很多貝殼。



5. 在這些貝殼中，  佔全部貝殼的 $\frac{\quad}{\quad}$ 。

6. $\frac{3}{5}$ 的貝殼是嘉盈拾到的，即嘉盈拾到了 _____ 個貝殼。



日期

成績

雲伊的媽媽正在製作水果沙拉。



7. 蘋果佔全部水果的 / 。



留意蘋果包含紅蘋果和青蘋果兩種。

8. 媽媽用了其中2個牛油果製作水果沙拉，這2個牛油果佔全部牛油果的 分之 。

9. 媽媽用了1個紅蘋果製作水果沙拉，餘下的蘋果中，紅蘋果佔 / 。

10.




媽媽把一個西瓜平均切成8塊，製作水果沙拉用了3塊，雲伊吃了 $\frac{1}{4}$ 個。

餘下 / 個西瓜。

STEAM 探索營

11.



上圖中，暖色調佔 / 。

知多點

冷暖色指色彩心理上的冷熱感覺。心理學上根據心理感覺，把顏色分為暖色調：紅、橙、黃、棕；冷色調：綠、青、藍、紫；中性色調：黑、灰、白。