


度量 25 容量的認識



要點導航

例



杯子A可盛較多的水，所以
杯子A的容量較大。

依指示，圈出所有答案。

1. 容器



2. 容量最大的



3. 容量最小的



選出最適合用來量度左面物件容量的容器，在對應的○內加上「✓」。

4.



5.



日期

成績



雲伊在量度家裏一些物件的容量。

6. 雲伊最適合用 *  /  /  來量度  的容量。

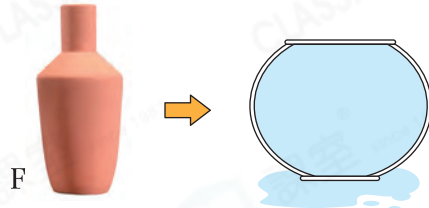
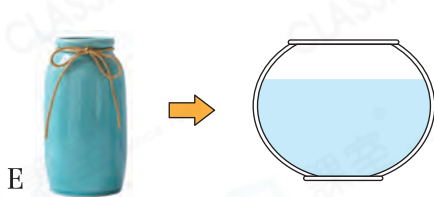
(* 圈出答案)

7. 盛滿水的  剛好注滿  。

盛滿水的  剛好注滿  。

盛滿水的  剛好注滿 _____ 個  。

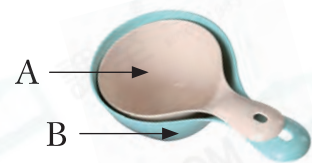
8. 雲伊把花瓶E和F分別注滿水，然後把全部水分別倒進相同的小魚缸。



花瓶 _____ 的容量較大。

永樂在比較一些容器的容量大小。

9. 右圖中，水瓢 * A / B (* 圈出答案) 的容量較大。



10.



已知三種型號的杯子粗細相同，把三種型號的杯子按容量由小至大排列出來。(只須寫出代表答案的英文字母)

答案： _____ ， _____ ， _____
(最小) (最大)