

26 升和毫升



要點導航

- 例** 一部雪櫃的容量約是 112 升。
一桶礦泉水約 4 升 / 4000 毫升。

量度容量較大的容器，適合用升(L)作單位。

$$1\text{L} = 1000\text{mL}$$

在橫線上填上答案。

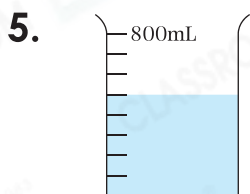
1. 1 升 135 毫升 = _____ 毫升

2. 3 升 = _____ 毫升

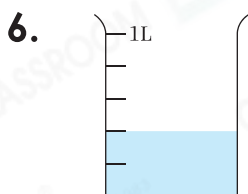
3. 5L50mL = _____ mL

4. 8L8mL = _____ mL

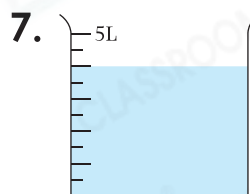
寫出下列各量杯中水所佔的容量。



_____ mL



_____ mL



_____ L

欣悅的爸爸去超級市場購買了許多日用品。

8. 一瓶洗衣液和一瓶洗手液的容量相差多少？

答案：_____ mL

2L



320mL



9. 在下列各項填上適當的容量單位。

(a) 一桶葵花籽油約 5 _____。

(b) 一瓶飲料約 1500 _____。



10. 下列哪一件日用品的容量比 1L 小？

A.



B.



C.



D.

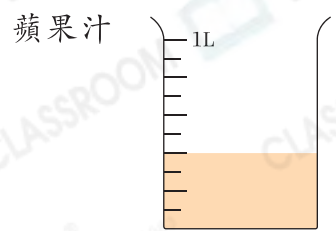





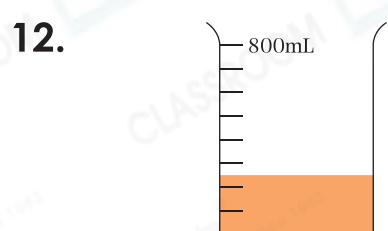
日期 _____

成績 _____

嘉盈的媽媽在製作特飲。

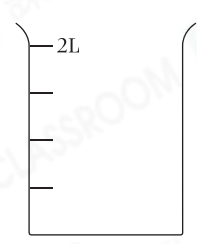


以上是製作特飲所需的梨汁和蘋果汁，即共需要 _____ mL 果汁。

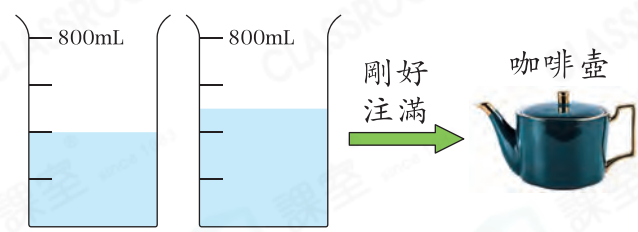


原有 600mL 紅蘿蔔汁，媽媽製作特飲後，餘下左圖所示的紅蘿蔔汁。即用去了 _____ mL 紅蘿蔔汁。

13. 媽媽把果汁和紅蘿蔔汁混合，並加入一些梳打水製成 1500mL 特飲，在右面量杯面畫上水位線以表示製成的特飲。



景熙在量度水壺和咖啡壺的容量。



14. 咖啡壺的容量是多少？

- A. 450mL
- B. 500mL
- C. 900mL
- D. 1L

15. 水壺的容量比咖啡壺的容量 * 多 / 少 _____ mL。

(* 圈出答案)

16. 注滿 的水剛好注滿 _____ 個 .