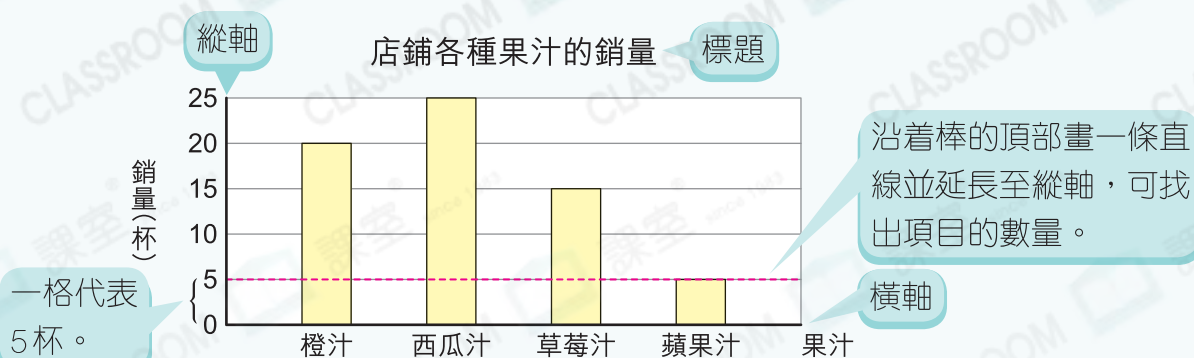


27 閱讀棒形圖



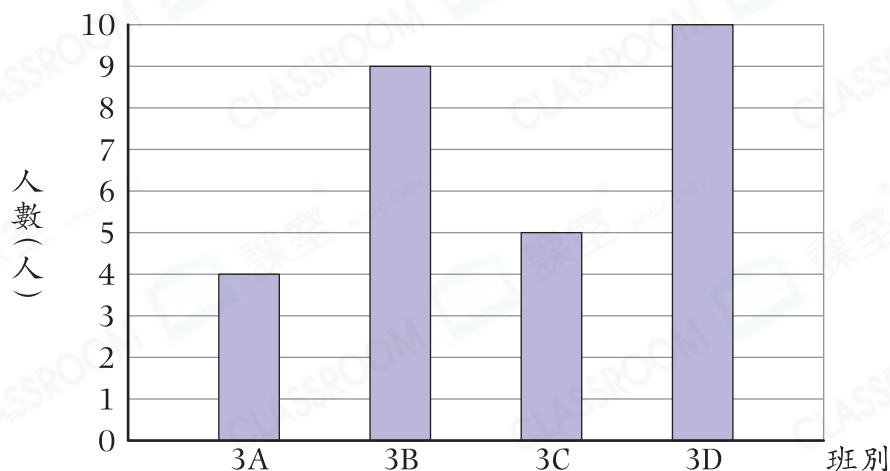
要點導航

例



老師統計了三年級學生訂閱數學雜誌的人數。

三年級學生訂閱數學雜誌的人數



- _____ 班訂閱數學雜誌的人數最少，只有 _____ 人。
- 3B 班訂閱數學雜誌的人數比 3D 班的 * 多 / 少 _____ 人。
(* 圈出答案)
- 三年級共有 _____ 人訂閱數學雜誌。
- 3D 班訂閱數學雜誌的人數是 _____ 班的 2 倍。
- 3B 班有 6 名男生訂閱數學雜誌，即有 _____ 名女生訂閱數學雜誌。
- 訂閱一年數學雜誌的費用是 358 元，3C 班訂閱數學雜誌的總費用是 _____ 元。

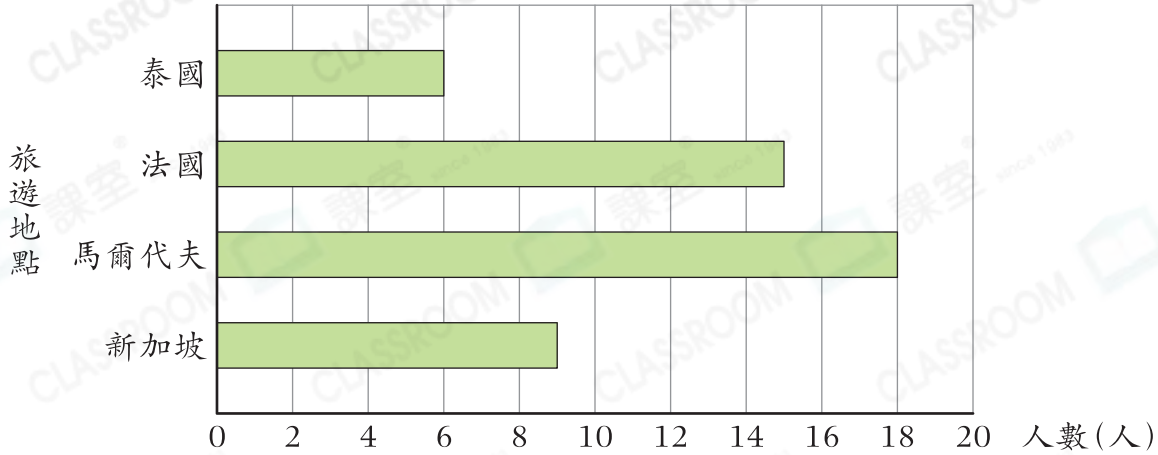


日期

成績

某公司員工以一人一票的方式選擇旅遊地點。

某公司選擇旅遊地點的投票結果



- 已知投票當天，有2名員工因請假而缺席投票，該公司共有_____名員工。
- _____的票數是泰國的3倍。
- 若加上缺席的2人的投票，會否改變投票結果？為什麼？

答案：因為_____

所以* 會 / 不會 (*圈出答案)改變投票結果。

景熙統計了撲滿裏各種硬幣的數量。

- 對比數量最多的兩種硬幣，相差_____個。
- 5元硬幣的總值是多少元？
答案：_____元
- 1元和10元硬幣的款項總值與2元和5元硬幣的款項總值相差_____元。

撲滿裏各種硬幣的數量

