

# 階段闖關 (四)

15分鐘

練習 21-28

回答下列各題。(9分)  8分鐘

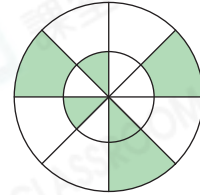
1. 在空格內填上適當的數字。(2分, 每分題1分)

(a)  $\frac{4}{7}$  比  $\frac{4}{\square}$  大。

(b)  $\frac{11}{11}$  等於  $\frac{\square}{\square}$ 。


2. 右圖中, 着色部分佔全圖的幾分之幾?(1分)

答案: \_\_\_\_\_













3.





(a)  佔全部氣球的  $\frac{\square}{\square}$ 。(1分)

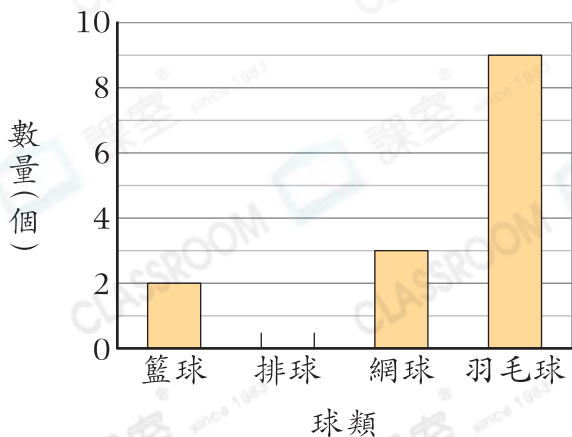
(b) 有  $\frac{1}{3}$  的氣球破了, 即有 \_\_\_\_\_ 個氣球破了。(1分)

4. 盛滿水的  剛好注滿      。

盛滿水的  剛好注滿    。

盛滿水的  剛好注滿 \_\_\_\_\_ 個 。(1分)

5. 陳老師購買各種球的數量



(a) 陳老師共購買了 20 個球, 在左圖中畫出代表排球數量的棒。(1分)

(b) 購買 \_\_\_\_\_ 的數量是網球的 3 倍。(1分)

(c) 購買籃球共用去 650 元, 平均每個籃球的售價是 \_\_\_\_\_ 元。(1分)

選出答案，把代表答案的○塗黑和塗滿。(3分，每題1分)

3分鐘

6. 下列哪一個分數的值大於 $\frac{7}{12}$ ?

A.  $\frac{7}{13}$

B.  $\frac{7}{15}$

C.  $\frac{5}{12}$

D.  $\frac{11}{12}$

7. 下列哪一個工具最適合用來量度電飯煲的容量?

A. 茶匙

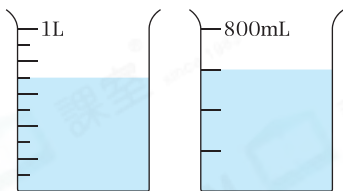
B. 桶

C. 尺子

D. 湯碗



8.



剛好注滿



的容量是

A. 1300mL。

B. 1400mL。

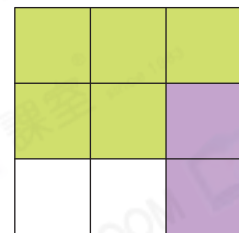
C. 1600mL。

D. 1800mL。

列式計算下列各題。(6分，每題3分)

4分鐘

9. 嘉盈有一張手工紙，她昨天用去 $\frac{5}{9}$ 張，今天用去 $\frac{2}{9}$ 張。嘉盈兩天用去的手工紙相差幾分之幾?



10. 爸爸把一個薄餅平均分為8件，然後分給大家。雲伊吃去2件後，餘下1件薄餅。雲伊共分得薄餅多少個?

