

# 度量 3 毫米



## 要點導航

**例** 5元硬幣的厚度約是3毫米。

毫米用於記錄較短的長度。


$$1\text{cm} = 10\text{mm}$$

在橫線上填上適當的長度單位。

1. 一本圖書約厚9\_\_\_\_\_。
2. 一把剪刀約長15\_\_\_\_\_。
3. 一枚萬字夾約長18\_\_\_\_\_。

用直尺量度以下各物件的長度。

4.



\_\_\_\_\_ 厘米 \_\_\_\_\_ 毫米

5.



\_\_\_\_\_ 毫米

欣悅的爸爸在為店鋪裝修選購玻璃。

規格	E	F	G	H
厚度	3mm	5mm	8mm	12mm

6. 現在有四種規格的玻璃，如上圖所示，其中有\_\_\_\_\_種規格的玻璃的厚度小於1cm。
7. 門窗玻璃的厚度通常在4mm至6mm之間。爸爸應選擇規格 \* E / F / G / H (\*圈出答案)的玻璃用於安裝店鋪的窗戶。
8. 爸爸另外訂購了右圖的玻璃，用直尺量度這塊玻璃的厚度，它的厚度是\_\_\_\_\_ mm。



日期

成績

永樂和朋友在比較鉛筆的長度。

9. 永樂的鉛筆長8厘米7毫米，即長\_\_\_\_\_毫米。

10.



用直尺量度雲伊的鉛筆的長度，它的長度是\_\_\_\_\_mm。

11. 嘉盈的鉛筆的長度在6cm至75mm之間，她的鉛筆可能長

A. 8cm。

B. 7cm8mm。

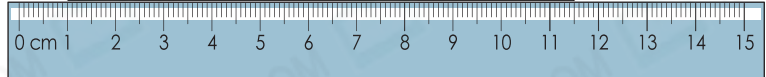

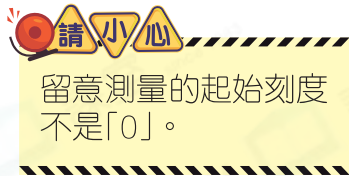
C. 68mm。

D. 5cm。

嘉盈挑選明信片寄給朋友。

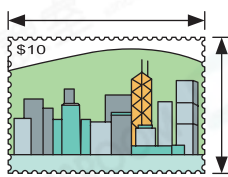
12. 右圖中，明信片長多少？

答案：\_\_\_\_\_mm



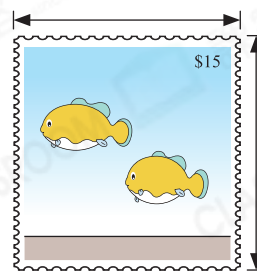
13. 用直尺量度各郵票的闊度和長度，並填在對應的橫線上。

(a) \_\_\_\_\_mm



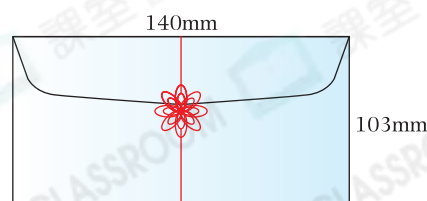
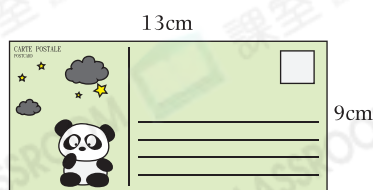
\_\_\_\_\_mm

(b) \_\_\_\_\_mm



\_\_\_\_\_mm

14.



嘉盈\* 能 / 不能 (\*圈出答案)把明信片放進信封裏。