

姓名：\_\_\_\_\_

班別：\_\_\_\_\_ ( )

# 考試 (一)

範圍：練習1-14

成績

/ 33

限時

30分鐘

1. 右面是一個五位數，數字「1」在千位，數字「2」在萬位。在空格內填上適當的數字。(1分)

		9	5	3
--	--	---	---	---

2. 在42087這個數裏，數字「4」表示的數值是  
\* 4 / 40 / 400 / 4000 / 40000。( \* 圈出答案) (1分)

3.

場次	第一場	第二場	第三場
入場人數	12568	13897	12509

上表顯示三場演唱會的入場人數。把入場人數由多至少排列。(1分)

答案：\_\_\_\_\_， \_\_\_\_\_， \_\_\_\_\_  
(最多) (最少)

4.  $99 \times 8 =$  \_\_\_\_\_ (1分)

5.  $512 \div 7 =$  \_\_\_\_\_ (1分)

6. 雲伊和哥哥及妹妹合資購買了一個手袋送媽媽，平均每人應付款 \$ \_\_\_\_\_。(1分)

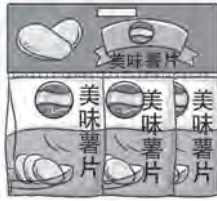


\$435

7. 一瓶藥有80粒，病人每天須吃3粒，這瓶藥最多足夠吃多少天？  
(列式計算) (3分)

8. 每包鹽重 250g，5 包鹽共重 \_\_\_\_\_ g。(1分)

9. 便利店 A



\$45

便利店 B



\$18

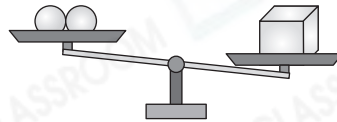
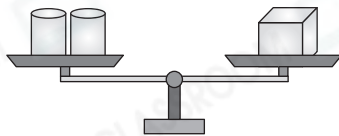
(a) 在便利店 A 購買 3 包薯片，平均每包售 \$ \_\_\_\_\_。(1分)

(b) 在便利店 B 購買 5 包薯片，共須付款 \$ \_\_\_\_\_。(1分)

10. 每盒奶黃月餅有 6 個，每箱有 8 盒。餅店購入 864 個奶黃月餅，即共購入 \_\_\_\_\_ 箱奶黃月餅。(1分)

11. 每束百合有 9 枝，每枝售 6 元。花店今天售出 84 束百合，花店今天售出百合的收入是多少元？(列式計算) (3分)

12.



細閱上圖，下列哪一項是正確的？(1分)

A. 圆柱比球重。


B. 圆柱比球輕。

C. 圆柱和球的重量相等。


D. 無法比較圆柱和球的重量。

13. 用直尺量度右面蠟筆的長度。



蠟筆的長度是 \_\_\_\_\_ mm。(1分)



14.



(a)  的重量是 \_\_\_\_\_ kg。(1分)

(b)  比  \* 輕 / 重 (\* 圈出答案) \_\_\_\_\_ kg。(1分)

15. 右面的時鐘顯示國畫班開始上課的時間。(2分, 每分題1分)

(a) 景熙在國畫班上課前25分鐘到達課室, 即他在 \_\_\_\_\_ 時 \_\_\_\_\_ 分到達課室。



(b) 國畫班在上午10時45分下課, 即國畫班共上課 \_\_\_\_\_ 小時。

16.

開始時間

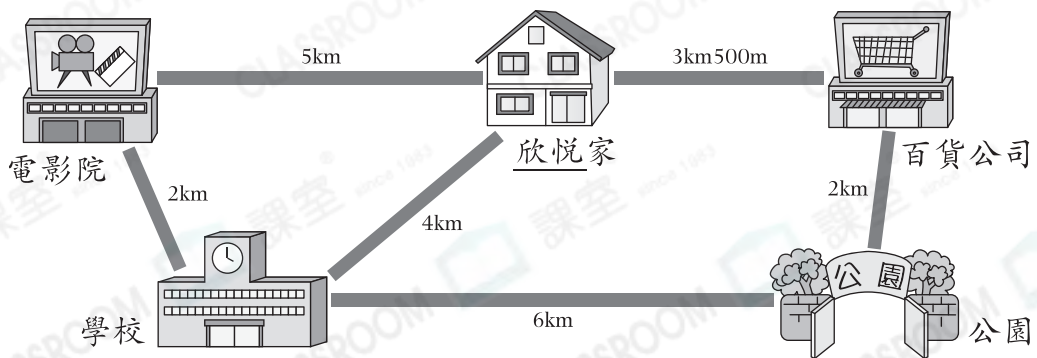


結束時間



上面的時鐘分別顯示流星雨開始和結束的時間。這場流星雨共持續了 \_\_\_\_\_ 秒。(1分)


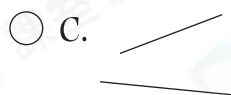
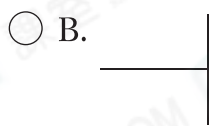

17.



(a) \_\_\_\_\_ 距離欣悅家最近。(1分)

(b) 由學校去百貨公司, 最短的路程只須走 \_\_\_\_\_ m。(1分)

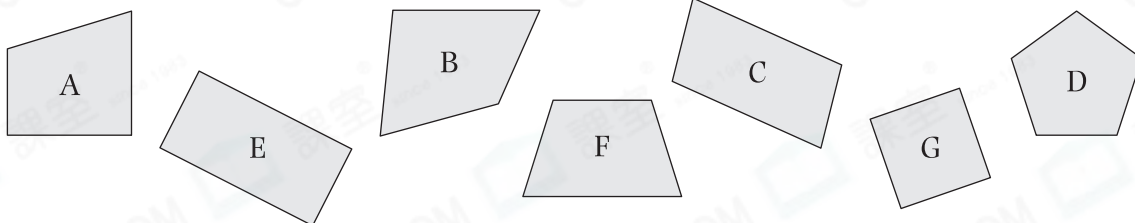
18. 下列哪一項是平行線？(1分)



19. 在下圖中，沿着虛線畫出一組平行線。(1分)



20.



(a) 上圖中，只有一組對邊平行的四邊形是\* \_\_\_\_\_ 和 \_\_\_\_\_


(\*寫出代表答案的英文字母)，它們都是 \_\_\_\_\_ 形。(2分)

(b) 上圖中，有兩組對邊平行，但沒有直角的四邊形是\* \_\_\_\_\_


(\*寫出代表答案的英文字母)，它是 \_\_\_\_\_ 形。(2分)

21. 畫出指定的四邊形。(2分，每分題1分)

(a) 平行四邊形



(b) 梯形



— 考試完 —