

姓名：_____

班別：_____ ()

考試 (二)

範圍：練習1-28

成績

/ 33

限時

30分鐘

1. 用中國數字寫出 10685。(1分)

答案：_____

2. $2967 - (1367 + 133) =$ _____ (1分)

3. $103 \times 9 + 103 =$ _____ (1分)

4. $(90 - 25) \times 4 =$ _____ (1分)

5. 一星期共有 _____ 小時。(1分)

6. 鋼筆



\$88

原子筆



\$11

(a) 梁老師購買鋼筆和原子筆各 2 枝，共須付款 \$ _____。(1分)

(b) 張老師付 \$100 購買 5 枝原子筆，應找回 \$ _____。(1分)

7. 每盒明信片有 6 張。雲伊需要 80 張明信片送給朋友，她最少要買 _____ 盒明信片。(1分)

8. 共有 9 支隊伍參加籃球比賽。每支隊伍由 5 名上場隊員和 7 名替補隊員組成。參加籃球比賽的隊員共有多少名？(列式計算)(3分)

9. 農場有 118 隻公雞，母雞的數量是公雞的 2 倍少 16 隻，農場有 _____ 隻母雞。(1分)

10. 倉庫有 2245 瓶橙汁，比梨汁多 860 瓶，共有 _____ 瓶果汁。(1分)

11. (a) 1^* 大於 / 等於 / 小於 $\frac{11}{12}$ 。(* 圈出答案) (1分)

(b) 在空格內填上適當的數字。(1分)


$\frac{5}{9}$ 比 $\frac{5}{\square}$ 小。

12. 永樂吃了 $\frac{2}{9}$ 個蛋糕，哥哥吃了 3 塊蛋糕，

兩人吃去的蛋糕相差 $\frac{\square}{\square}$ 個。(1分)



13.

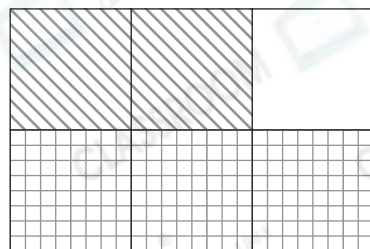


雲伊買了以上的包子，其中 $\frac{2}{5}$ 是豆沙包，3 個是叉燒包，餘下的都是奶皇包。

(a) 有 _____ 個豆沙包。(1分)

(b) 奶皇包佔全部包子的 $\frac{\square}{\square}$ 。(1分)

14. 媽媽把一塊布分成 6 等份。製作手絹用了 $\frac{2}{6}$ 塊，製作枕套用了 $\frac{3}{6}$ 塊，共用了整塊布的幾分之幾？(列式計算)(3分)



15. 右面是博物館的開放時間表。


(a) 博物館在星期六_____午
_____時_____分閉館。(1分)

(b) 博物館在星期一一共開放_____小時。(1分)

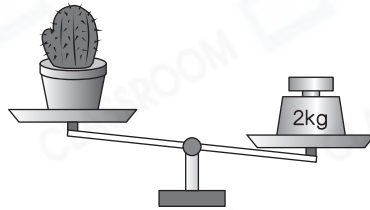
博物館開放時間	
星期	開放時間
一、三至五	10:00 – 18:00
六、日	10:00 – 18:30
二	休館

16. 右圖秒錶顯示景熙完成100m跑步比賽用的時間，他比永樂慢2秒。永樂完成比賽用了_____秒。(1分)





17. 下列哪一項可能是  的重量？(1分)

- A. 3000g
- B. 2500g
- C. 2000g
- D. 1500g



18. 盛滿水的  剛好注滿  。

盛滿水的  剛好注滿  。

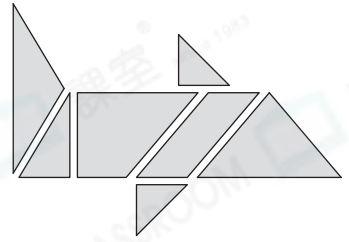
盛滿水的  可注滿 _____ 個  。(1分)

19.   剛好注滿  ,  的容量是 _____ mL。(1分)

20. 永樂用平面圖形拼砌了一幅圖畫。

(a) 右圖共有_____個平行四邊形。(1分)

(b) 右圖共有_____個直角三角形。(1分)



21.

3cm

5cm

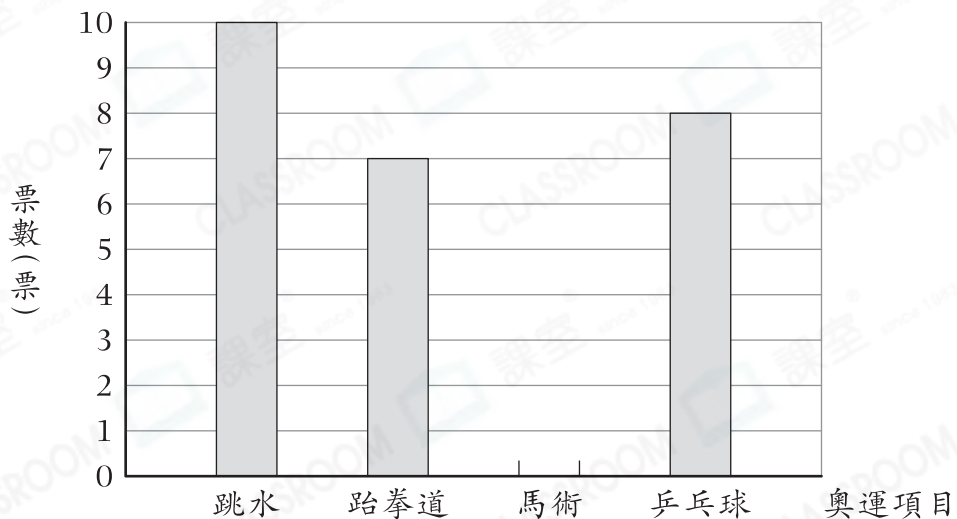
9cm

10cm

現有以上四枝長度不同的飲管，任選三枝飲管砌出一個三角形，共可砌出_____個不同的三角形。(1分)

22. 3B班學生以一人一票的方式，選出最喜歡的奧運項目。

3B班學生最喜歡的奧運項目



(a) 3B班喜歡馬術的學生人數是喜歡跳水的一半，在棒形圖上畫出代表馬術的票數的棒。(1分)

(b) 乒乓球的票數和_____的票數相差1票。(1分)

(c) 投票當天有1名學生因請假而缺席投票，3B班共有_____名學生。(1分)

— 考試完 —