

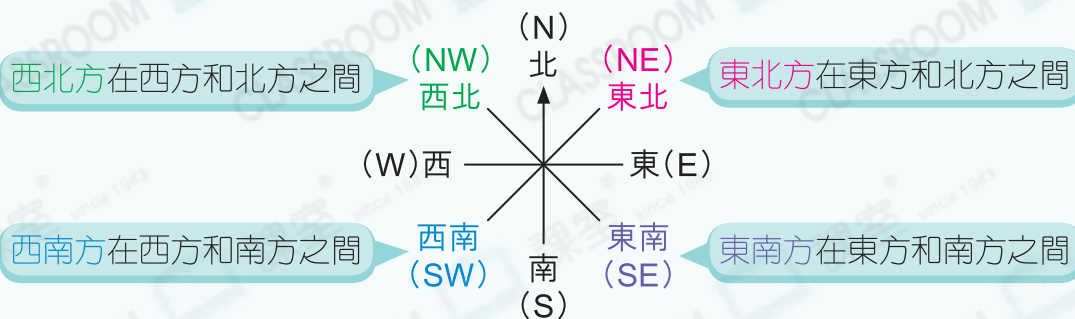
圖形與空間

8 方向

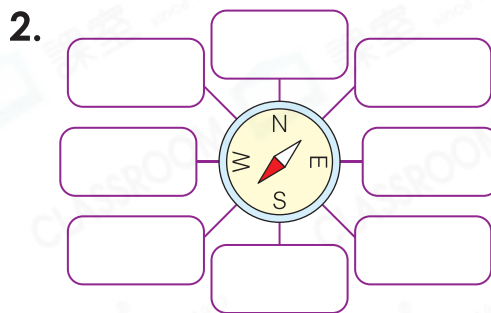
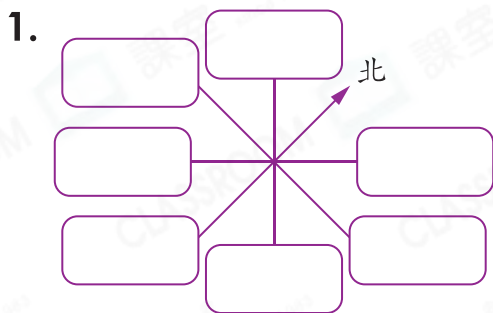


要點導航

例



在空格內填上正確的方向。



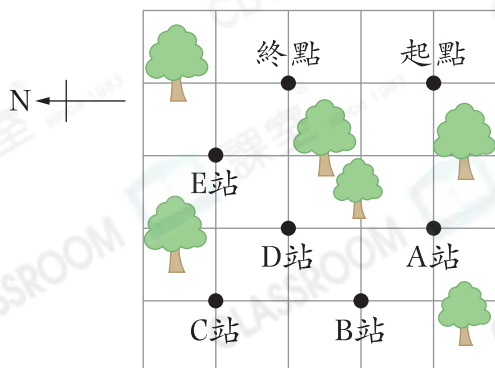
回答下列各題。

3. 雅婷面向東北方，她背向_____方。
4. 曜君面向西南方，他向右轉一個直角後，會面向_____方。
5. A城在B城的西北方，B城在A城的_____方。

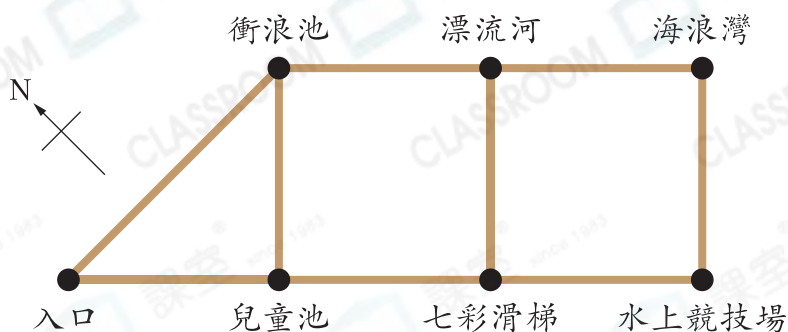
右圖標示了致遠參加野外定向走過的檢查站。

6. 終點在A站的_____方。
7. 致遠到達D站後，先走到C站，再到E站，最後到達終點。寫出致遠行走的方向。

答案：_____方 → _____方
→ _____方

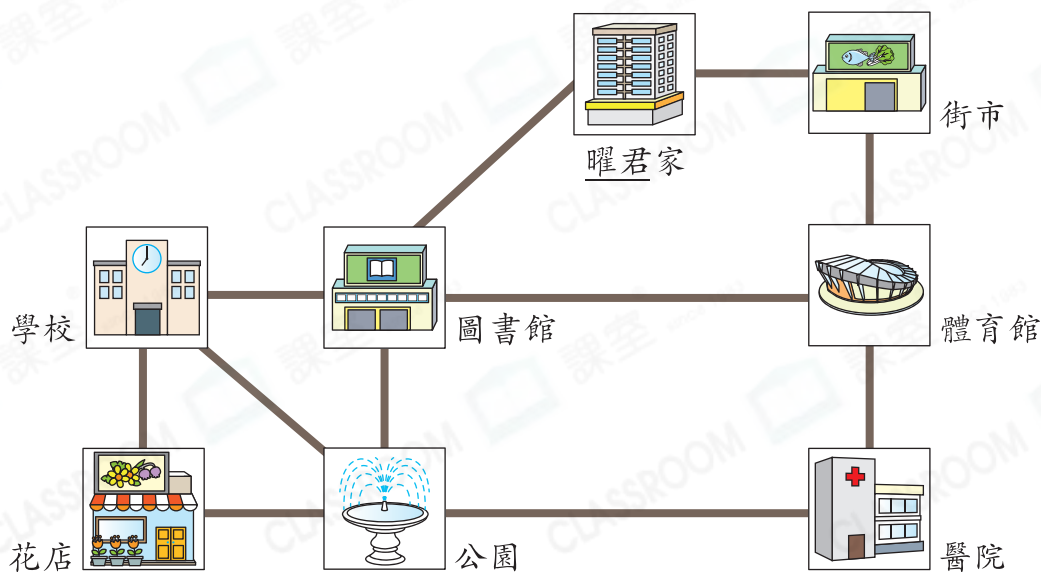


欣妍和朋友到水上樂園遊玩。



8. 漂流河的西南方是_____。
9. 欣妍從入口向_____方走，到達衝浪池後，再轉向_____方一直走，便可到達漂流河。
10. 欣妍的朋友從水上競技場向_____方走，到達_____後，再轉向_____方便可到達漂流河。

以下是曜君家附近的平面圖。



11. 體育館在街市的東南方，學校在圖書館的_____方。
12. 曜君從家出發，先向_____方走，到達圖書館後，再轉向_____方走，便可到達公園。
13. 曜君從公園出發，先向_____方走，到達醫院後，再轉向_____方走，到達街市後，最後轉向_____方走，便可返回家。