

## 1 乘法(一)

▶ 兩位數乘兩位數



## 要點導航

例  $15 \times 34 = 510$

$$\begin{array}{r} 15 \\ \times 34 \\ \hline 60 \\ 450 \\ \hline 510 \end{array}$$

乘十位： $15 \times 30$ 乘個位： $15 \times 4$ 

計算下列各題。

1.

$$\begin{array}{r} 74 \\ \times 13 \\ \hline \end{array}$$

2.

$$\begin{array}{r} 58 \\ \times 46 \\ \hline \end{array}$$

3.

$$\begin{array}{r} 40 \\ \times 21 \\ \hline \end{array}$$

4.  $26 \times 30 =$  \_\_\_\_\_

5.  $13 \times 25 =$  \_\_\_\_\_

★ 6.  $54 \times 56 =$  \_\_\_\_\_

速算

## 速算指南

十位數字相同

 $18 \times 12 = ?$   
 個位數字之和為 10

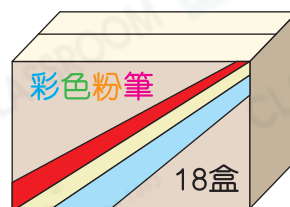
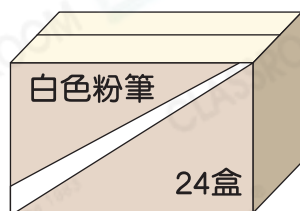
→ +1

$$\begin{array}{r} 16 \\ \times 12 \\ \hline 36 \\ 180 \\ \hline 216 \end{array}$$

規律法



課室小學購入一批粉筆。



7. 課室小學購入 35 箱白色粉筆，即購入 \_\_\_\_\_ 盒白色粉筆。

8. 課室小學購入 20 箱彩色粉筆，即購入 \_\_\_\_\_ 盒彩色粉筆。

9. 每盒白色粉筆有 24 枝，每盒彩色粉筆有 36 枝。一箱白色粉筆的粉筆數量比一箱彩色粉筆 \* 多 / 少 (\* 圈出答案)。

曜君的叔叔的文具店在七月一日開張。

10.



曜君

開張當天共派發了55打宣傳單張。

開張當天，共派發了\_\_\_\_\_張宣傳單張。



11. 叔叔計劃在開張當月，每天派發30張現金券，即共需要\_\_\_\_\_張現金券。

12. 貨架上共有45枝鋼筆，鉛筆的數量是鋼筆的21倍，貨架上共有鉛筆多少枝？


- A. 903枝      ○ B. 925枝      ○ C. 945枝      ○ D. 950枝

13. 文具店在開張當天舉行優惠大特賣。



買10送1

\$15



特價\$55

~~\$60~~



減\$5

~~\$25~~

(a) 開張當天，文具店售出15部計算機，共收得\_\_\_\_\_元。

(b) 開張當天，張小姐買了35本筆記簿，共須付款多少元？(列式計算)

**解題金鑰匙**

買10送1，即買30本送3本，買35本只須付32本的價錢。



能力挑戰館

14. 把3、5、7、8分別填入  內，使算式的結果最大，並計算出結果。

×   = \_\_\_\_\_



解難題