

20 周界的認識



要點導航

例 閉合圖形



藍色線是周界。



閉合平面圖形的邊界，稱為周界。

非閉合圖形



沒有周界。



下列各圖形中，如果有周界的，在 內加上「✓」；沒有的，加「×」。







用直尺和繩子量度下列各圖形的周界。

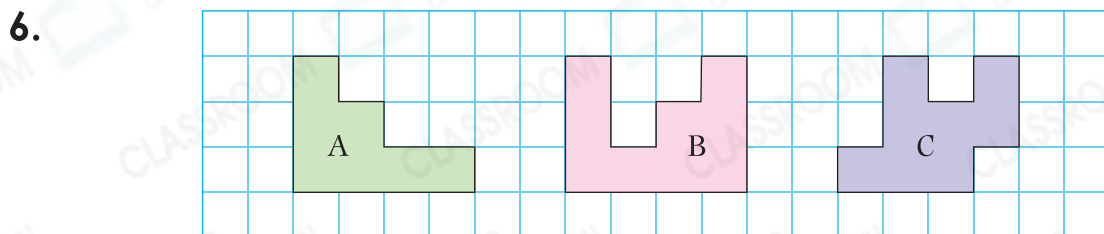


約 _____ cm



約 _____ cm

雅婷在方格紙上畫不同的圖形。



圖形 _____ 的周界最長。

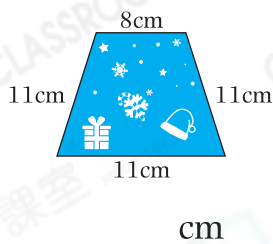
7. 雅婷想在方格紙上畫一個周界是 28cm 的四邊形，替她在方格紙上畫出這個四邊形。



致遠正在設計聖誕卡。

8. 致遠設計了兩張聖誕卡，求它們的周界。

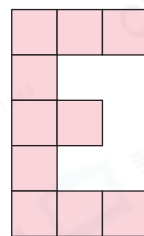
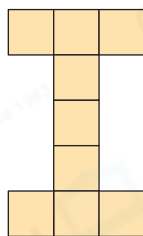
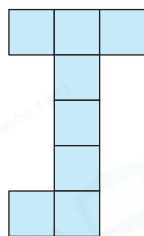
(a)



(b)



9. 致遠用邊長各是1cm的正方形顏色紙拼出英文名字，如下圖所示。

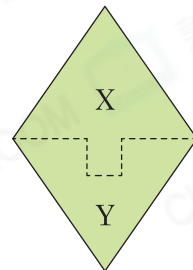


(a) 字母「J」的周界是_____ cm。

(b) 字母「_____」的周界最長。

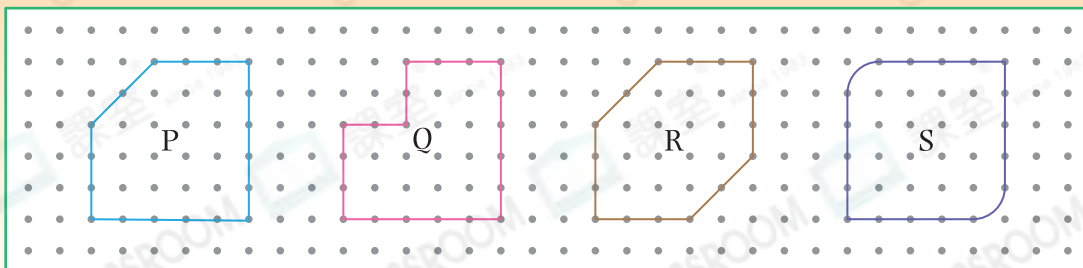
10. 致遠從一張菱形卡紙中沿虛線剪出聖誕樹，以下哪一項描述是正確的？

- A. X的周界比Y的長。
 B. Y的周界比X的長。
 C. X和Y的周界相等。
 D. 無法比較X和Y的周界。



能力挑戰館

11.
跨課題



以上哪個圖形的周界是最短的？

答案：圖形_____

