

21 正方形和長方形的周界



要點導航

例



正方形周界
= 邊長 \times 4

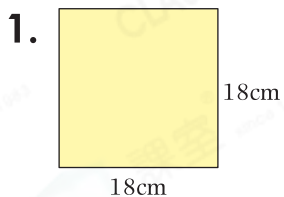
周界是： $8 \times 4 = 32(\text{cm})$

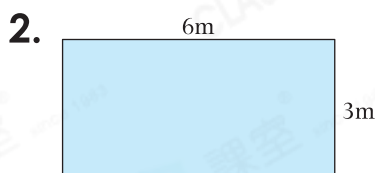


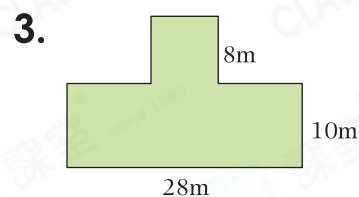
長方形周界
= (長 + 闊) \times 2

周界是： $(27 + 15) \times 2 = 84(\text{cm})$

計算下列各圖形的周界。(答案須寫上單位)







完成下列各表格。(答案須寫上單位)

4.

正方形	
邊長	周界
(a) 32cm	
(b)	84m

5.

長方形		
長	闊	周界
(a)	24cm	102cm
(b) 34m	13m	

雅婷的爸爸替新開張的書局設計宣傳單張。

6. 宣傳單張的周界是多少？

答案：_____ cm

7. 是一個正方形，它的周界是

_____ cm。

8. 的周界是 16cm，它的長是

_____ cm。



