

# 數 22 小數的認識



## 要點導航

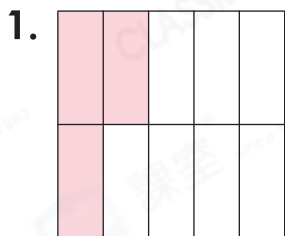
例

個位	小數點	十分位	百分位	千分位	萬分位
1	.	2	8	6	5
		↓ 0.2	↓ 0.08	↓ 0.006	↓ 0.0005

讀作：一點二八六五

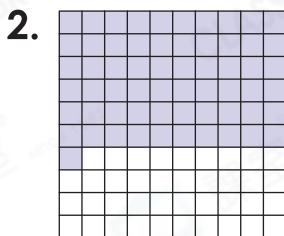
小數點後面有四個數字，是四位小數。

用分數和小數表示着色部分佔全圖的多少。



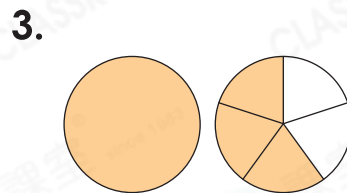
分數：\_\_\_\_\_

小數：\_\_\_\_\_



分數：\_\_\_\_\_

小數：\_\_\_\_\_



分數：\_\_\_\_\_

小數：\_\_\_\_\_

回答下列各題。

4.

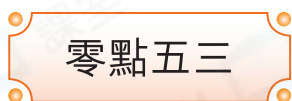


(a) 讀作：\_\_\_\_\_

(b) 「2」在\_\_\_\_\_位，代表\_\_\_\_\_。

(c) 「3」在\_\_\_\_\_位，代表\_\_\_\_\_。

5.



(a) 寫作：\_\_\_\_\_

(b) 十分位數字是\_\_\_\_\_，代表\_\_\_\_\_。

把下列各數由大至小排列出來。

6. 4.26, 4.31, 3.85 \_\_\_\_\_ > \_\_\_\_\_ > \_\_\_\_\_

7.  $\frac{9}{20}$ , 0.009, 9 \_\_\_\_\_ > \_\_\_\_\_ > \_\_\_\_\_

8. 1.08,  $\frac{47}{50}$ , 0.75 \_\_\_\_\_ > \_\_\_\_\_ > \_\_\_\_\_

