

# 數 23 小數加法和減法



## 要點導航

例  $3.04 + 7.18 = 10.22$

$$\begin{array}{r} 3.04 \\ + 7.18 \\ \hline 10.22 \end{array}$$

對齊小數點  
按整數加法計算  
注意進位

$8.6 - 8.34 = 0.26$

$$\begin{array}{r} 8.60 \\ - 8.34 \\ \hline 0.26 \end{array}$$

注意退位  
注意補「0」

計算下列各題。

1.  $3.04 + 2.17 =$  \_\_\_\_\_

直式



2.  $26.8 - 6.68 =$  \_\_\_\_\_

直式



3.  $1.42 + 3.03 =$  \_\_\_\_\_

4.  $6.85 - 5.52 =$  \_\_\_\_\_

5.  $5.92 + 3.6 =$  \_\_\_\_\_


6.  $8.2 - 0.88 =$  \_\_\_\_\_

7.  $6.3 + 5.5 + 3.7 =$  \_\_\_\_\_

8.  $10.21 - 4.12 - 4.21 =$  \_\_\_\_\_

曜君和爸爸去選購書櫃和書桌。

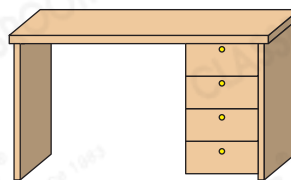
書櫃



\$459.90

~~\$489.80~~

書桌



\$210.60

9. (a) 書櫃的售價比原價便宜了 \$ \_\_\_\_\_。

(b) 爸爸購買一個書櫃和一張書桌，共付款 \$ \_\_\_\_\_。

10. 書櫃高 1.85m，比書桌高 1.1m。書桌的高度是 \_\_\_\_\_ m。

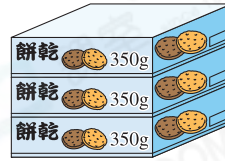
日期

成績

今天欣妍和家人駕車到郊外野餐。

11. 欣妍查到今天的最低氣溫為26.5度，比昨天的下降了1.9度。昨天的最低氣溫是\_\_\_\_\_度。

12.



(a) 媽媽準備的橙汁比汽水多多少？(列式計算)

(b) 媽媽共準備了\_\_\_\_\_kg 餅乾。

13. 欣妍的爸爸駕車從家裏出發，先行駛了7600m，到達油站為汽車加滿油，然後再行駛12000m，便達到達野餐地點。汽車共行駛了多遠？

A. 1.96km

B. 19.6km

C. 196km

D. 19600km



**14.** 今天，欣妍一家在10:30離開家，在16:30回到家。他們在野餐的地點逗留了4.7小時，來回在路上的時間共是\_\_\_\_\_小時。

跨課題

### STEAM 探索營

15. 在正常溫度範圍內，口腔和耳道的最低溫度相差多少？

答案：\_\_\_\_\_ °C

#### 知多點

人體內部的溫度稱為體溫。一般在口腔、耳道和直腸三個部位探測體溫。它們的正常溫度範圍分別約是：

口腔：35.7°C – 37.7°C

耳道：35.5°C – 37.8°C

直腸：36.7°C – 37.5°C