

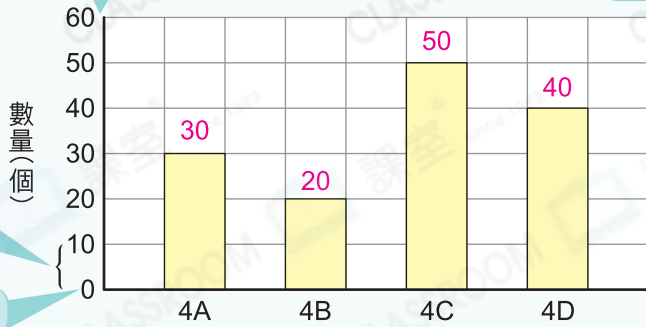
27 閱讀棒形圖



要點導航

例

縱軸 四年級各班回收的膠瓶數量 標題：說明統計圖的內容



一格代表10個

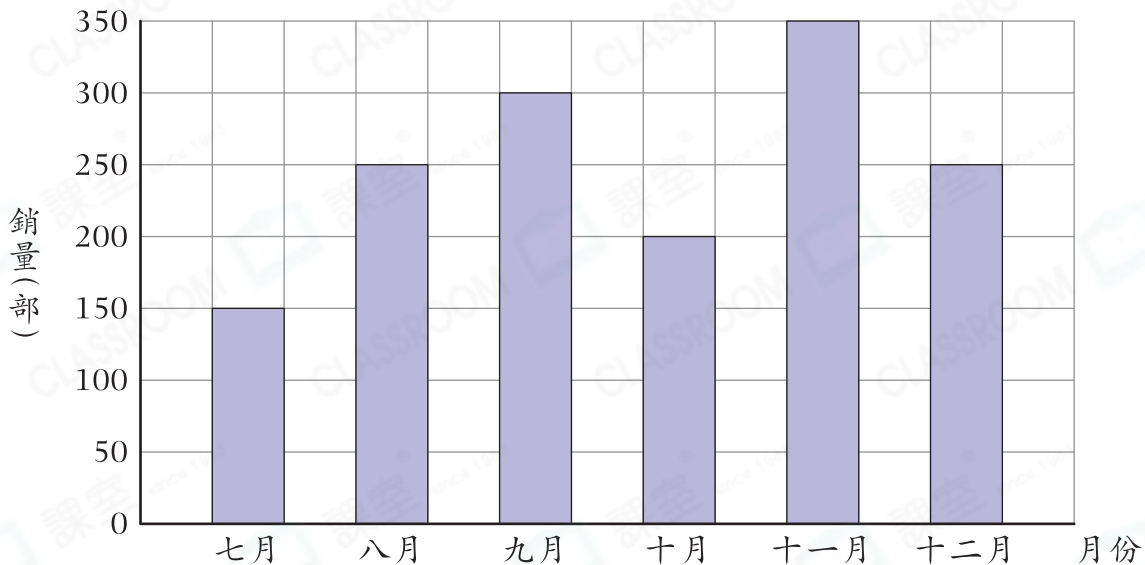
統計項目的數量

橫軸

班別 統計項目

以下棒形圖顯示某店鋪下半年智能手機的銷量。

某店鋪下半年智能手機的銷量



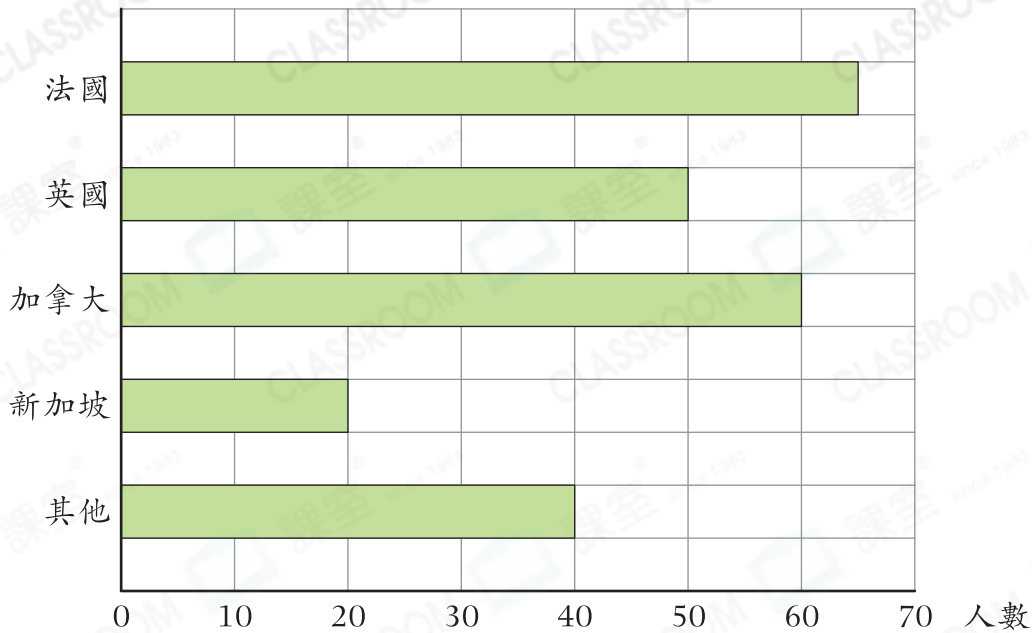
- 在十月，店鋪智能手機的銷量是_____部。
- _____月和_____月智能手機的銷量相同，各售出了_____部。
- _____月智能手機的銷量是九月的一半。
- 十一月智能手機的銷量比十二月的* 多 / 少 _____部。
(* 圈出答案)
- 七月至九月智能手機的總銷量是_____部。

日期

成績

陳老師統計了正佳小學的學生們最想去旅遊的國家。

正佳小學的學生們最想去旅遊的國家

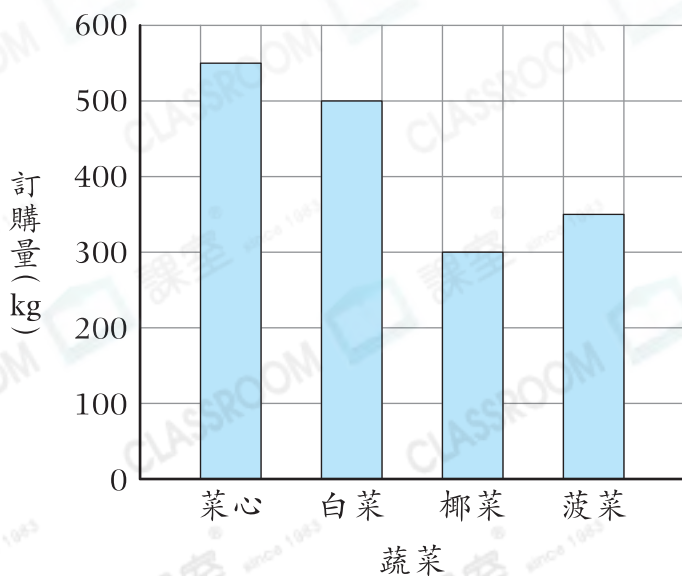


6. 最多人想去旅遊的國家是_____，有_____人。
7. 最想去美國旅遊的學生，統計時應歸類於_____類。
8. 最想去新加坡旅遊的學生人數是最想去加拿大旅遊的幾分之幾？

答案：_____

經理統計了餐廳上個月四種蔬菜的訂購量。

餐廳上個月四種蔬菜的訂購量



9. 餐廳上個月四種蔬菜的總訂購量是_____ kg。

10. 比較訂購量最多和最少的蔬菜，相差_____ kg。

11. 每公斤椰菜的訂購價是\$12，餐廳上個月購買椰菜共花費了多少？

答案：\$ _____