

# 28 製作棒形圖



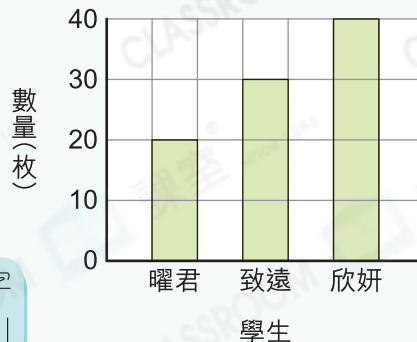
## 要點導航

- 例** (a) 把三名學生收集的郵票數量取近似值至十位，完成下表。  
 (b) 依湊整後的數據，完成右面的棒形圖。

學生	數量(枚)	取近似值至十位
曜君	18	20
致遠	31	30
欣妍	43	40

對個位數字「四捨五入」

三名學生收集的郵票數量



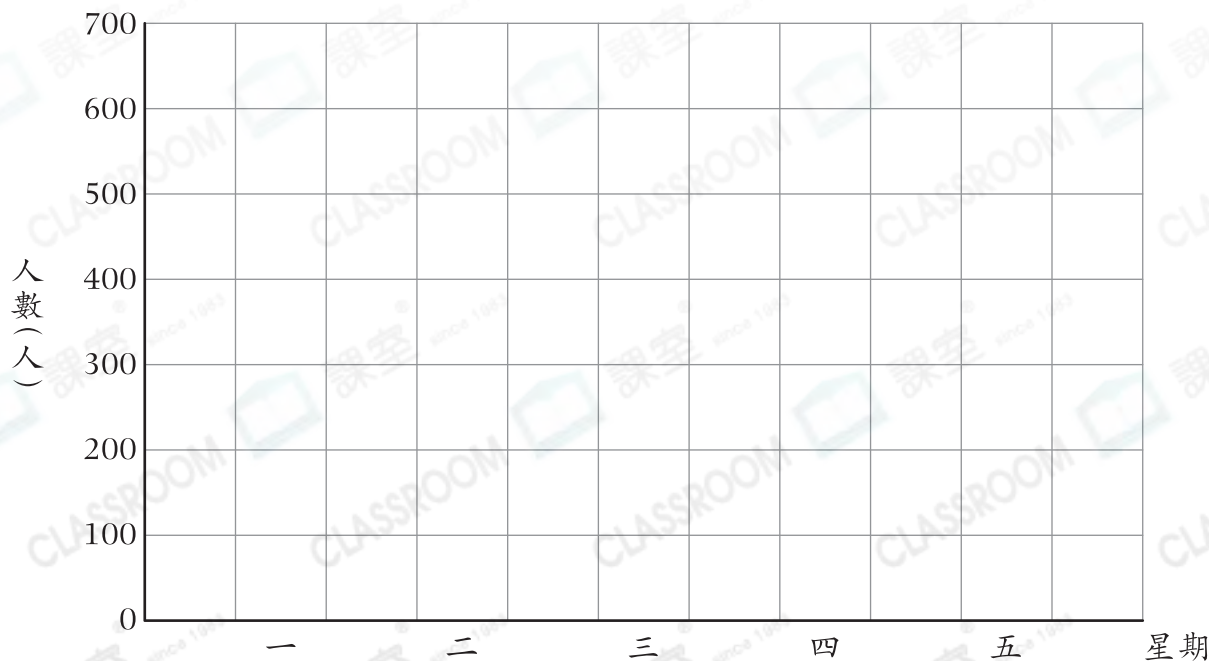
工作人員記錄了游泳池星期一至五的入場人數。

1. 把游泳池星期一至五的入場人數取近似值至百位，完成下表。

星期	一	二	三	四	五
入場人數(人)	562	719	473	507	449
取近似值至百位					

2. 根據湊整後的數據，完成以下棒形圖，並加上標題。

(標題)



交通部統計了昨天通過長安隧道的各類車輛的數量。

3. 把昨天通過長安隧道的各類車輛數量取近似值至十位，完成下表。

車輛種類	私家車	巴士	貨車	的士
數量(輛)	795	503	596	304
取近似值至十位				

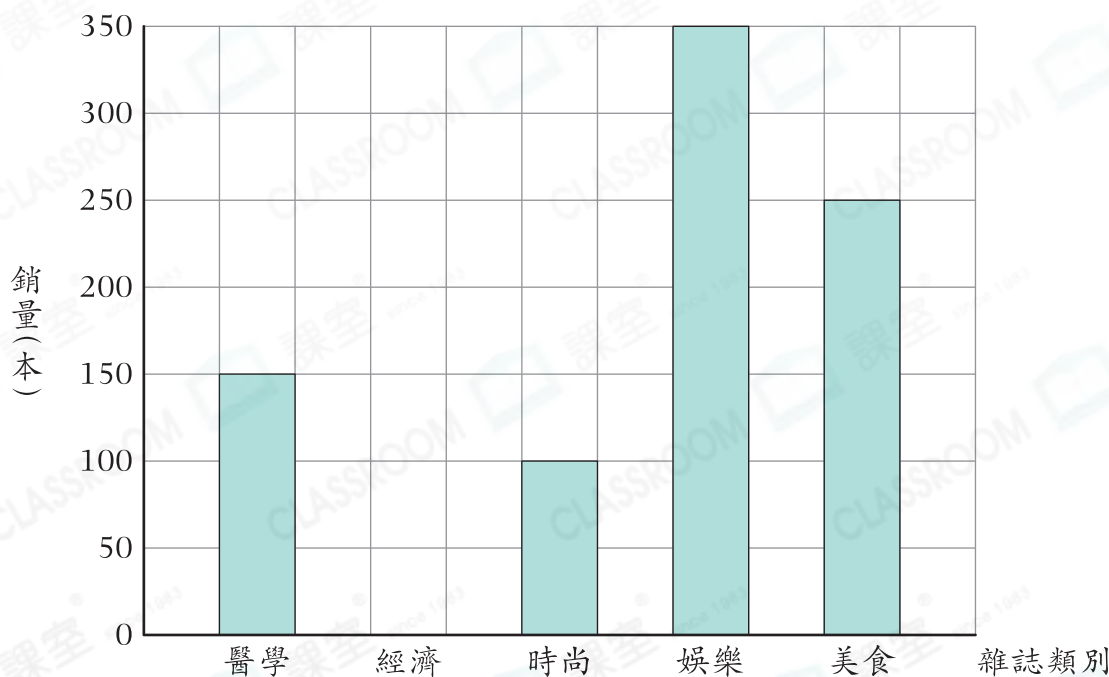
4. 根據湊整後的數據製作一個棒形圖，應選用一格代表多少輛最合適？試解釋。

答案：因為\_\_\_\_\_

所以選用以一格代表 \* 10 / 50 / 100 (\*圈出答案)輛最合適。

書店職員統計了九月各類雜誌的銷量。

九月各類雜誌的銷量



5. 在九月，經濟類雜誌的銷量是時尚類雜誌的3倍，在上圖畫出代表經濟類雜誌銷量的棒。
6. 共有\_\_\_\_\_類雜誌的銷量不低於250本。