

# 階段闖關 (四)

15分鐘

練習 22-28

計算下列各題。(6分, 每題1分)

3分鐘

1.  $1.98 + 1.2 =$  \_\_\_\_\_

2.  $2.05 + 5 =$  \_\_\_\_\_

3.  $3.69 - 2.41 =$  \_\_\_\_\_

4.  $8 - 3.08 =$  \_\_\_\_\_

5.  $7.28 - 0.8 + 1.02 =$  \_\_\_\_\_

6.  $5.87 - (9 - 6.71) =$  \_\_\_\_\_

回答下列各題。(7分)

5分鐘

7. 在 9.1467 這個數中, 數字「4」是在 \_\_\_\_\_ 位, 代表的數值是 \_\_\_\_\_。(1分)

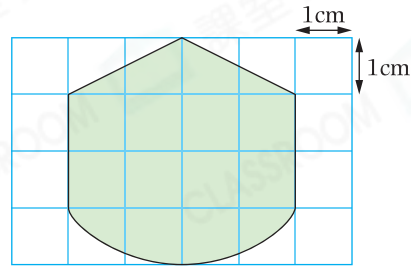
8. 家安高 1.55 米, 比爸爸矮 30 厘米, 媽媽比爸爸矮 0.2 米。媽媽高 \_\_\_\_\_ 米。(1分)

9. 下列哪個數的值最接近 1? (圈出答案) (1分)

0.89 ,  $\frac{81}{100}$  ,  $\frac{23}{25}$

10. 右圖中着色部分的面積約是多少? (1分)

答案: \_\_\_\_\_  
(答案須寫上單位)



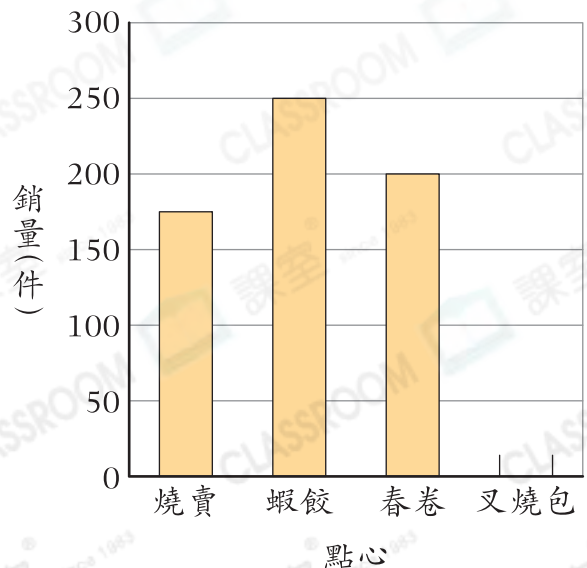
11. (a) 茶樓今天售出了 150 件叉燒包, 在棒形圖中畫出代表叉燒包銷量的棒。(1分)

(b) 今天燒賣的銷量和蝦餃的相差 \_\_\_\_\_ 件。(1分)

(c) 每件春卷的售價和燒賣的相同。春卷今天的銷售額是 \$2400, 燒賣今天的銷售額是多少? (1分)

答案: \$ \_\_\_\_\_

茶樓今天各種點心的銷量



選出答案，把代表答案的○塗黑和塗滿。(4分，每題1分)



3分鐘

12. 下列哪一個數的值最大？

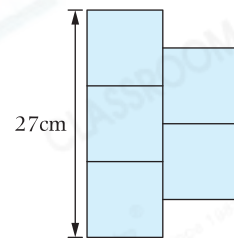
- A. 0.992      ○ B. 1.275      ○ C. 1.098      ○ D. 1.237

13. 在18.84這個數中，兩個「8」的值相差多少？

- A. 0.1      ○ B. 7.2      ○ C. 7.92      ○ D. 7.992

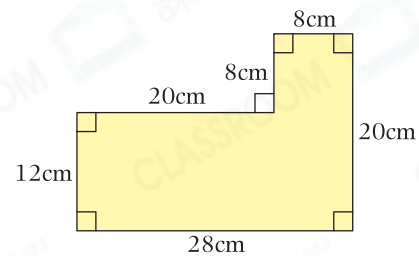
14. 右圖由5個大小相同的正方形組成，整個圖形的面積是多少？

- A.  $36\text{cm}^2$       ○ B.  $81\text{cm}^2$   
○ C.  $180\text{cm}^2$       ○ D.  $405\text{cm}^2$



15. 右圖的面積是多少？

- A.  $256\text{cm}^2$       ○ B.  $336\text{cm}^2$   
○ C.  $400\text{cm}^2$       ○ D.  $560\text{cm}^2$



列式計算下列各題。(6分，每題3分)



4分鐘

16. 爸爸在智趣玩具店購買了兩件相同的玩具，最少需要付多少？



### 智趣玩具店

玩具	售價
拼圖	每盒 \$243.80
飛機模型	每架 \$98.60
機械狗	每隻 \$305.40

17. 從一個長27cm和闊9cm的長方形中，剪出一個最大的正方形後，餘下部分的面積是多少？

