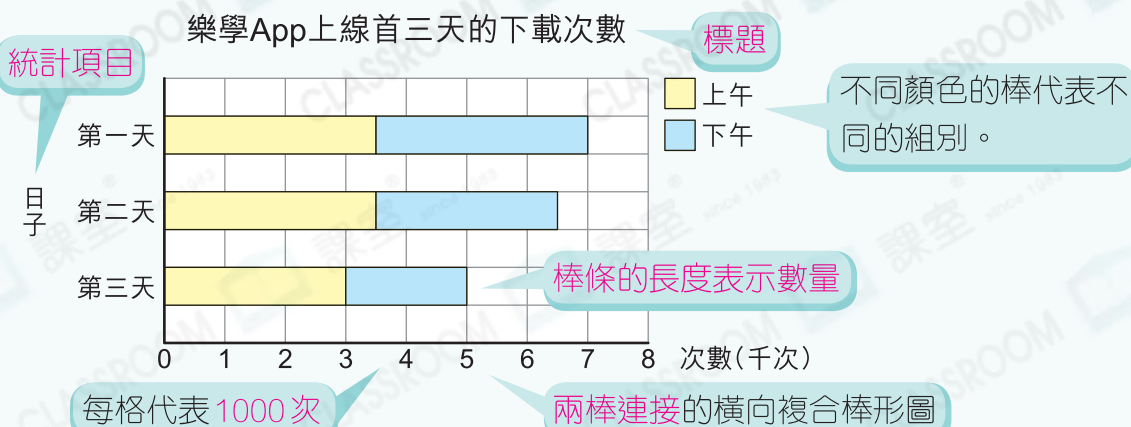


# 13 閱讀複合棒形圖



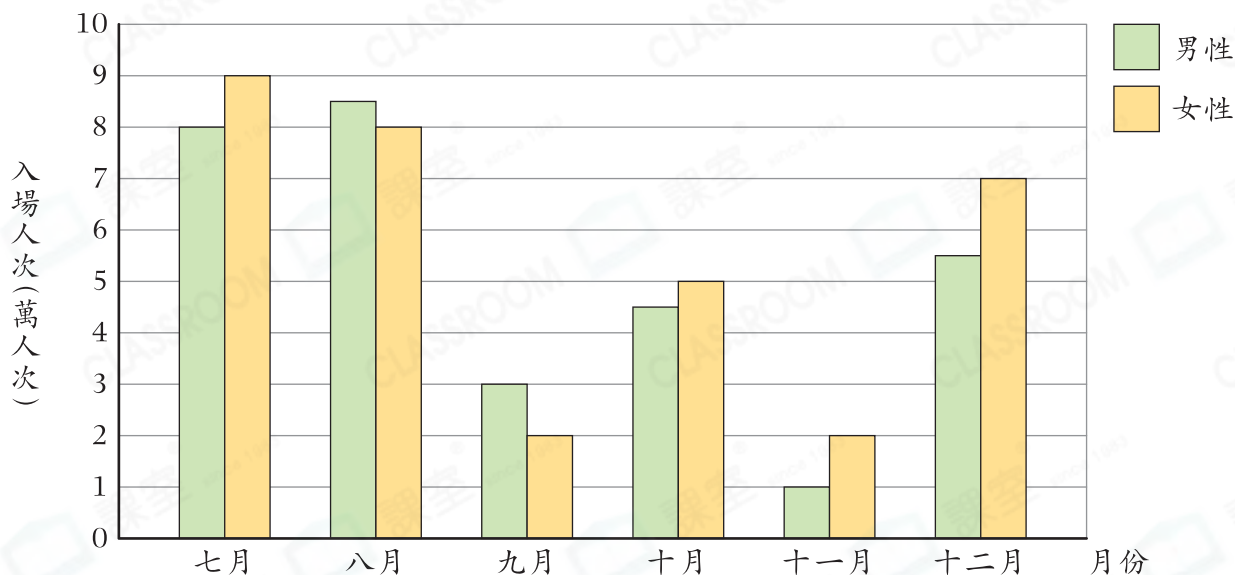
## 要點導航

例



以下是兒童遊樂場下半年入場人次的統計圖。

兒童遊樂場下半年入場人次



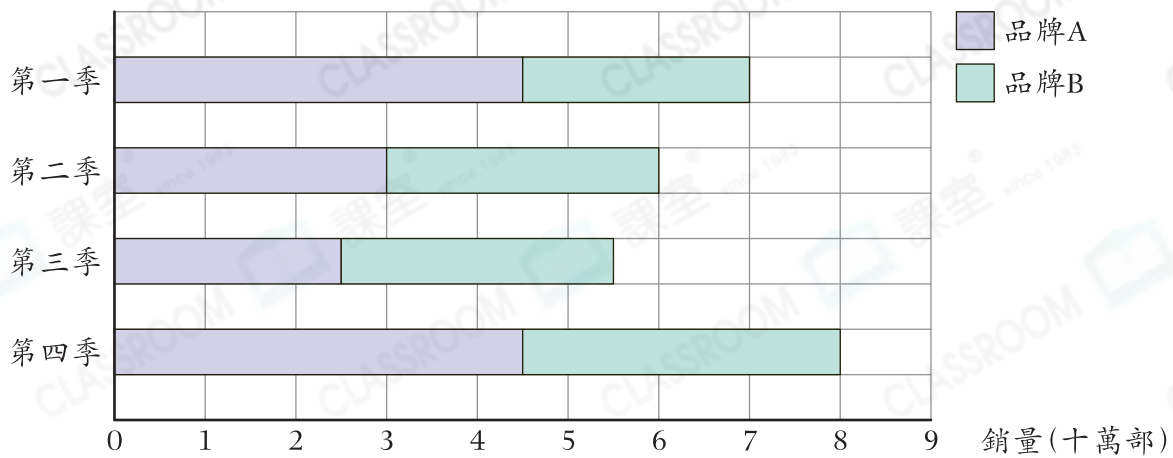
1. 以上的統計圖每一格代表\_\_\_\_\_人次。
2. \_\_\_\_\_月的女性入場人次最多，有\_\_\_\_\_人次。
3. \_\_\_\_\_月的男性入場人次最少，有\_\_\_\_\_萬人次。
4. \_\_\_\_\_月和\_\_\_\_\_月的女性入場人次相同。
5. \_\_\_\_\_月的男性和女性入場人次相差最多。
6. 八月共有\_\_\_\_\_萬人次入場。

### 解題金鑰匙

棒的高度相差越大，入場人次相差越多。

俊賢的爸爸統計了去年某兩個品牌手機的銷量。

去年某兩個品牌手機的銷量



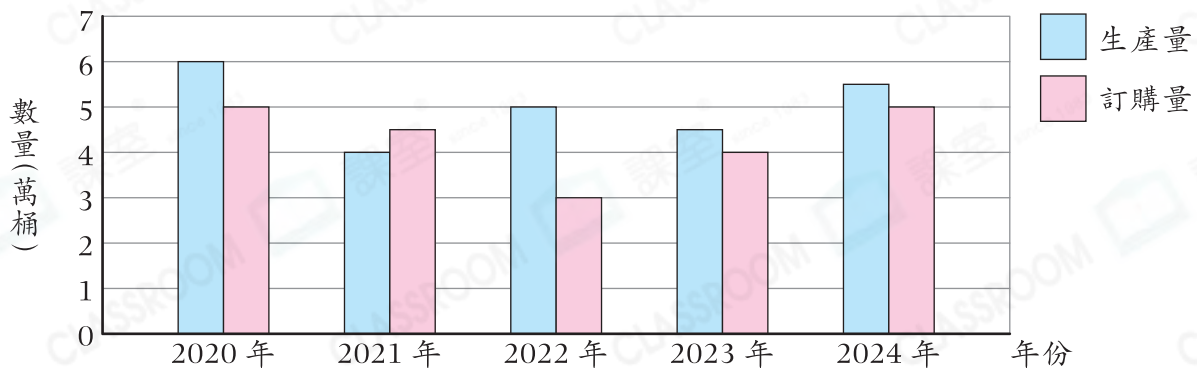
7. 在第四季中，品牌A手機的銷量比品牌B的\* 多 / 少 (\*圈出答案)  
\_\_\_\_\_部。

8. 第\_\_\_\_\_季品牌B手機的銷量比品牌A的高。

9. 去年品牌\_\_\_\_\_手機的總銷量較高，共有\_\_\_\_\_部。

君卓在做常識科的專題研習，需要統計某地區的石油生產量及訂購量。

某地區近五年的石油生產量及訂購量



10. 每桶石油的訂購價是120元，2020年該地售出石油的收入是\_\_\_\_\_萬元。

11. 該地區近五年是否有足夠的石油生產量以滿足訂購量？試解釋。

答案：因為\_\_\_\_\_

所以\* 足夠 / 不足夠 (\*圈出答案)滿足近五年的訂購量。