

1 多位數與近似值

要點導航

例

千萬	百萬	十萬	萬	千	百	十	個
4	3	7	0	0	2	1	1

讀作：四千三百七十萬零二百一十一

取近似值至百萬位是：44 000 000

取至「百萬位」，即對十萬位的數字四捨五入；然後把十萬位至個位的數字全部改為0

完成下列各題。

1.

102 900 400

(a) 讀作：_____

(b) 這個數是一個* 奇數 / 偶數 (*圈出答案)。

(c) 數字「2」在_____位。

2.

九千零七萬四千零五

(a) 寫作：_____





(b) 這個數是一個* 奇數 / 偶數 (*圈出答案)。

(c) 數字「9」代表的數值是_____。

完成下列表格。

	實際數目	取近似值至萬位	取近似值至十萬位	取近似值至百萬位
3.	72 196 852			
4.	414 564 370			

數一數，填一填。



5. 左起第一碟有_____顆花生。

6. 上圖約共有花生：_____ × _____ = _____ (顆)

日期

成績

王先生打算置業，他正在查看一些單位現在的售價。

海景閣 42C
\$10 235 099
650 呎

怡霖閣 28A
\$9 647 366
560 呎

雲霧閣 11B
\$9 660 078
540 呎

7. 用中國數字寫出海景閣 42C 的售價。

答案：_____ 元

8. 雲霧閣 11B 的售價連續三個月各上漲了 \$100 000，寫出它各月的售價。

答案：\$ _____ → \$ _____ → \$9 660 078

9. 王先生購買單位的預算是九百六十五萬元，他可以購買哪個單位？

答案：* 海景閣 42C / 怡霖閣 28A / 雲霧閣 11B (* 圈出答案)

為期七天的香港書展正在火熱開展中。

10.



《世界童話故事》的作者正在舉行簽名會。桌面上約共有_____本《世界童話故事》。

11. 右表顯示書展首三天的入場人次。

(a) 第_____天的入場人次是一個奇數。

(b) 把首三天的入場人次由少至多排列。

答案：_____，_____，_____。
(最少) (最多)

日子	入場人次
第一天	155 062
第二天	99087
第三天	156 200

12. 這次書展售出入場券的總收入，取近似值至百萬位後是 \$15 000 000，實際總收入可能是多少？

A. \$14 462 960

B. \$14 648 880

C. \$15 562 960

D. \$15 650 000