

# 階段闖關 (三)

15分鐘

練習 15-21

計算下列各題。(6分, 每題1分)

3分鐘

1.  $18.83 \times 1000 =$  \_\_\_\_\_

2.  $480 \times 0.01 =$  \_\_\_\_\_

3.  $0.5 \times 2.4 =$  \_\_\_\_\_

4.  $6.6 \times 8 =$  \_\_\_\_\_

5.  $8.66 \times 15 =$  \_\_\_\_\_

6.  $5.5 \times 1.02 =$  \_\_\_\_\_

回答下列各題。(9分)

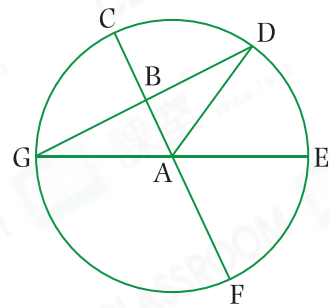
5分鐘

7. 每包瓜子重0.25kg, 6包瓜子共重\_\_\_\_\_kg。(1分)

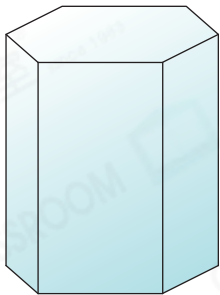
8. 右圖中, CF和EG是圓的直徑。

(a) \_\_\_\_\_點是圓心。(1分)

(b) \* AB / AD / AE / AF / AG / GB / BD  
是半徑。(\*圈出所有答案)(1分)



9.



(a) 左圖的立體圖形有\_\_\_\_\_個頂點  
和\_\_\_\_\_條稜。(1分)

(b) 把左圖平行於底切開, 所得截面是  
\_\_\_\_\_形。(1分)

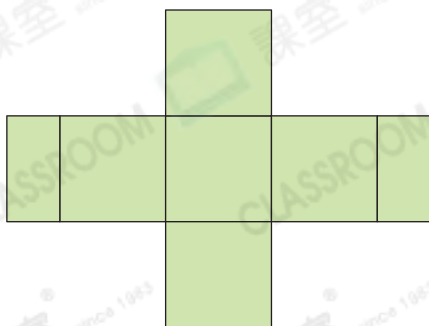
10. 向右圖的球形魚缸內注入水。

(a) 注水過程中, 水面都是\_\_\_\_\_形。(1分)

(b) 注水過程中, 水面先是越來越\*大 / 小,  
然後越來越\*大 / 小。(\*圈出答案)(1分)



11.



左圖是一個摺紙圖樣。

(a) 可摺出一個\_\_\_\_\_。(1分)

(b) 摺出的立體有\_\_\_\_\_個頂點和  
\_\_\_\_\_條稜。(1分)

