

複合棒形圖

姓名:

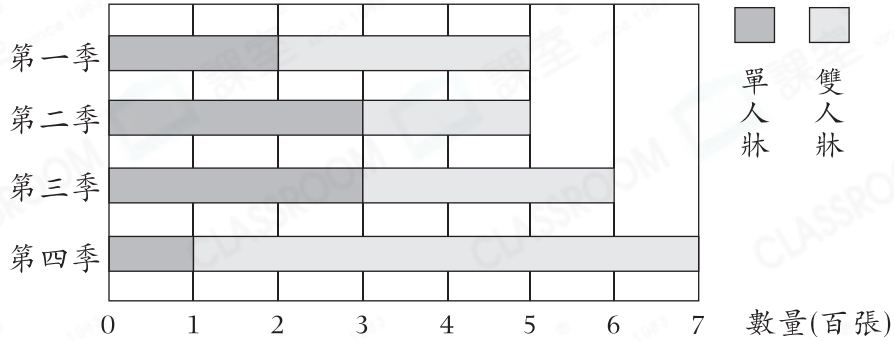
日期:

班別:

熱身練習

1.

家具店去年售出牀的數量

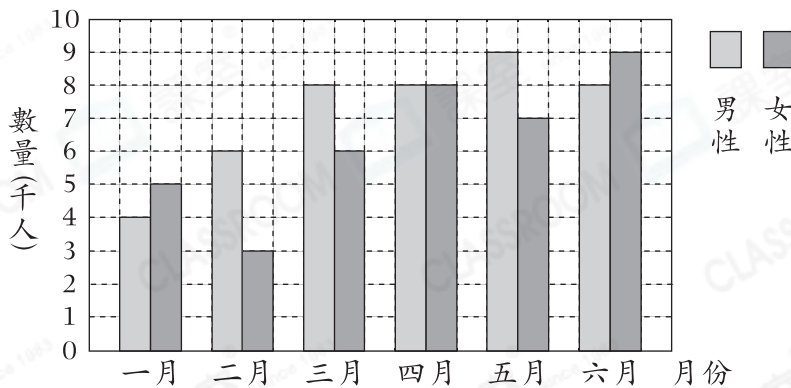


(a) 第_____季售出單人牀和雙人牀的數量相同。

(b) 第_____季售出牀的數量最多，共有_____張。

2.

博物館上半年的參觀人數



(a) _____月份的女性參觀人數最少，只有_____人。

(b) _____月份的男性參觀人數和女性參觀人數相同。

(c) 上半年只有_____個月女性參觀人數多於男性參觀人數。

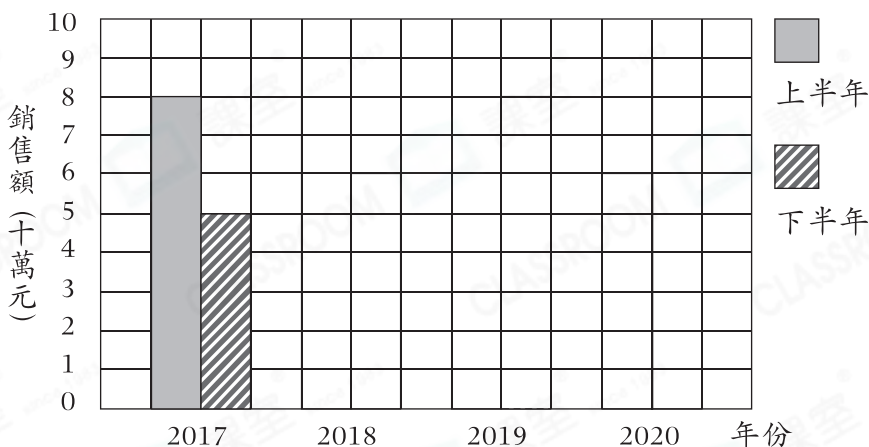
能力升級

3. 職員統計了服裝公司近四年的銷售額。

年份	2017	2018	2019	2020
上半年(十萬元)	8	9	5	6
下半年(十萬元)	5	6	8	9

根據上表的數據，完成以下的複合棒形圖，並填上標題。

(標題)



進階題

4. (a) 張先生在 _____ 月和 _____ 月的支出相同。

(b) 扣除支出後，張先生把餘下的款項作為儲蓄，他在 _____ 月的儲蓄最多。

(c) 第一季共儲蓄了多少元？

答案：_____ 元

張先生首四個月的收入和支出

