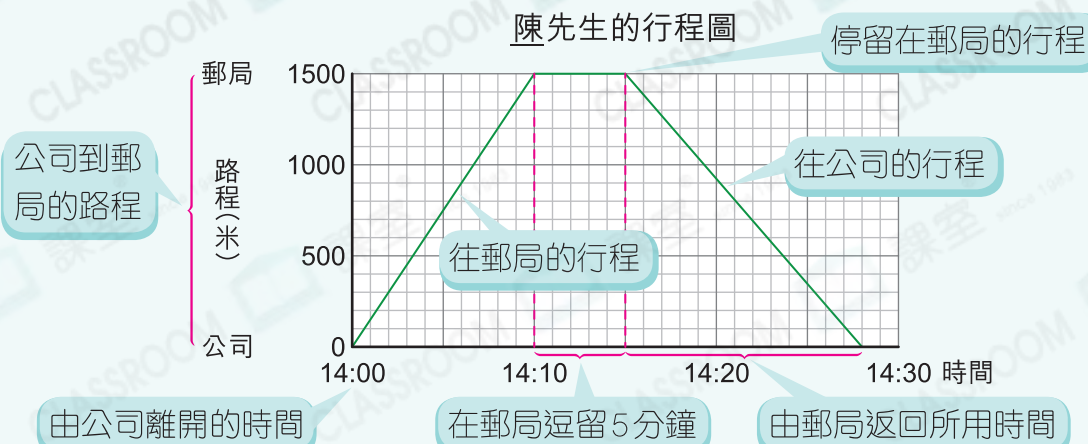


25 行程圖



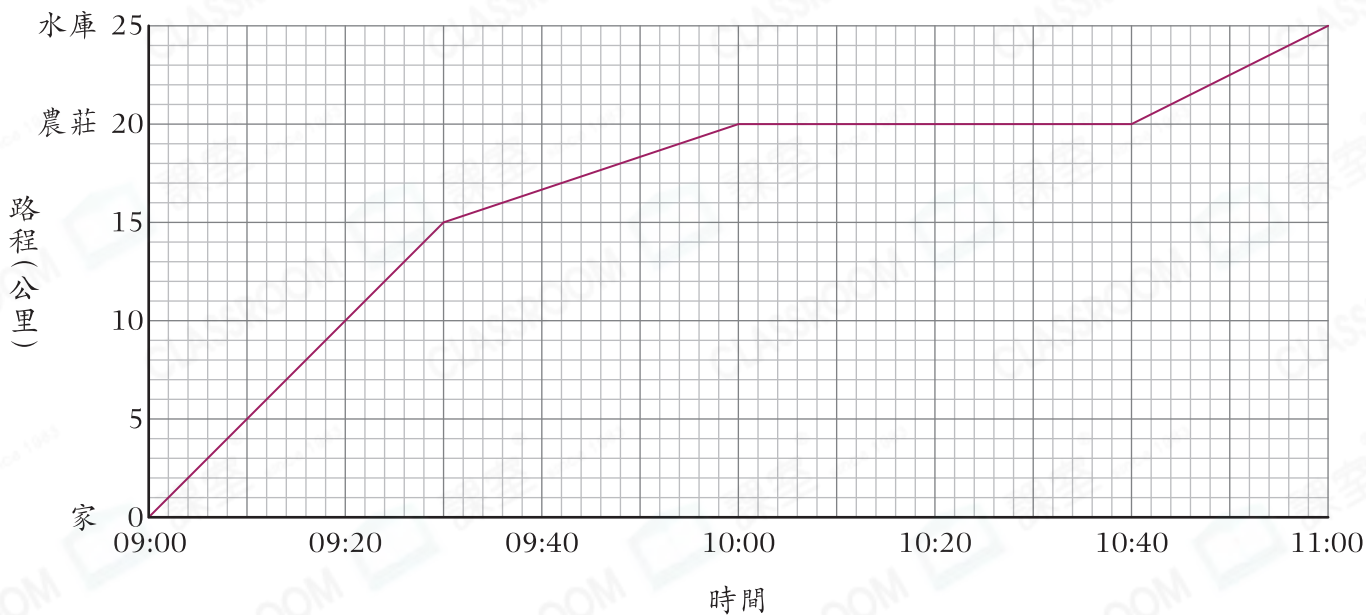
要點導航

例



根據行程圖，回答下列各題。

叔叔踏單車的行程圖



- 從叔叔家到農莊的路程是_____公里。
- 叔叔在農莊停留了_____分鐘。
- 叔叔全程的平均速率是_____公里每小時。
- 叔叔在哪段時間的速率最快？
 - A. 09:00 — 09:30
 - B. 09:30 — 10:00
 - C. 10:00 — 10:40
 - D. 10:40 — 11:00



計算全程的平均速率時，停留的時間須算在內。



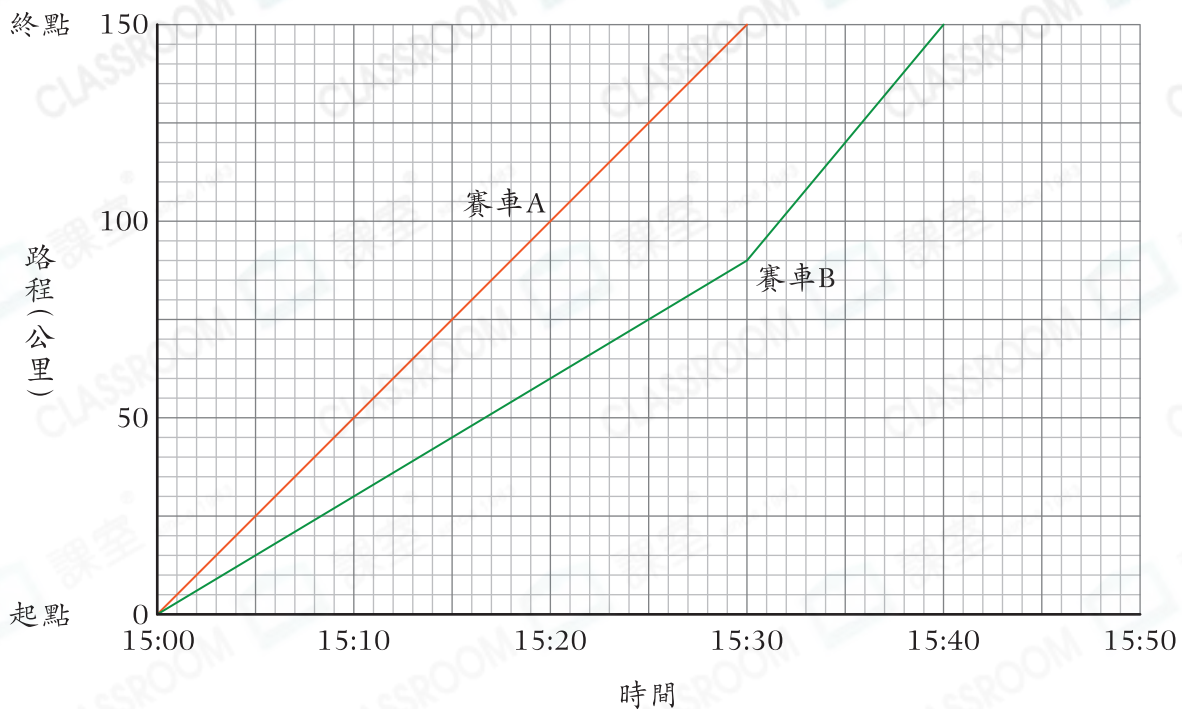
線段越斜，速率越快。

日期

成績

星宇在觀看一級方程式賽車比賽。

賽車的行程圖

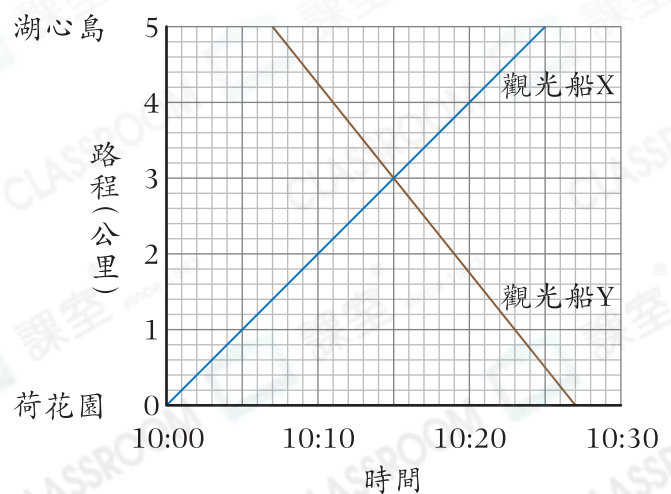


- 比賽開始 25 分鐘後，兩輛賽車相距_____公里。
- 賽車 A 比賽車 B * 早 / 晚 (* 圈出答案) _____ 分鐘到達終點。
- 賽車 B 在 15:30 後的速率是_____公里每小時。

夕悅一家乘坐觀光船觀光。

- 下列哪項說法是正確的？
 - A. 觀光船 Y 從荷花園開出。
 - B. 觀光船 Y 在 10:27 開出。
 - C. 觀光船 X 在 10:25 到達湖心島。
 - D. 觀光船 X 全程共行駛了 20 分鐘。

兩艘觀光船的行程圖



- 兩艘觀光船在_____午
_____時_____分相遇。
- 觀光船_____的速率較快，速率是_____公里每小時。