

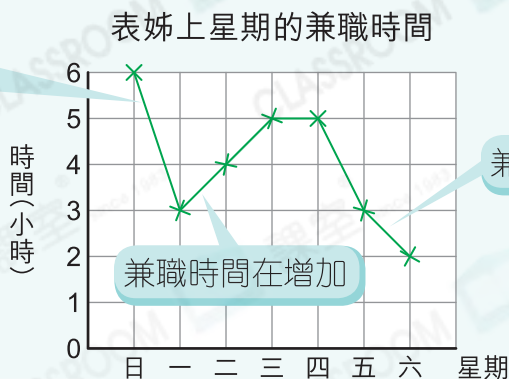
7 閱讀折線圖



要點導航

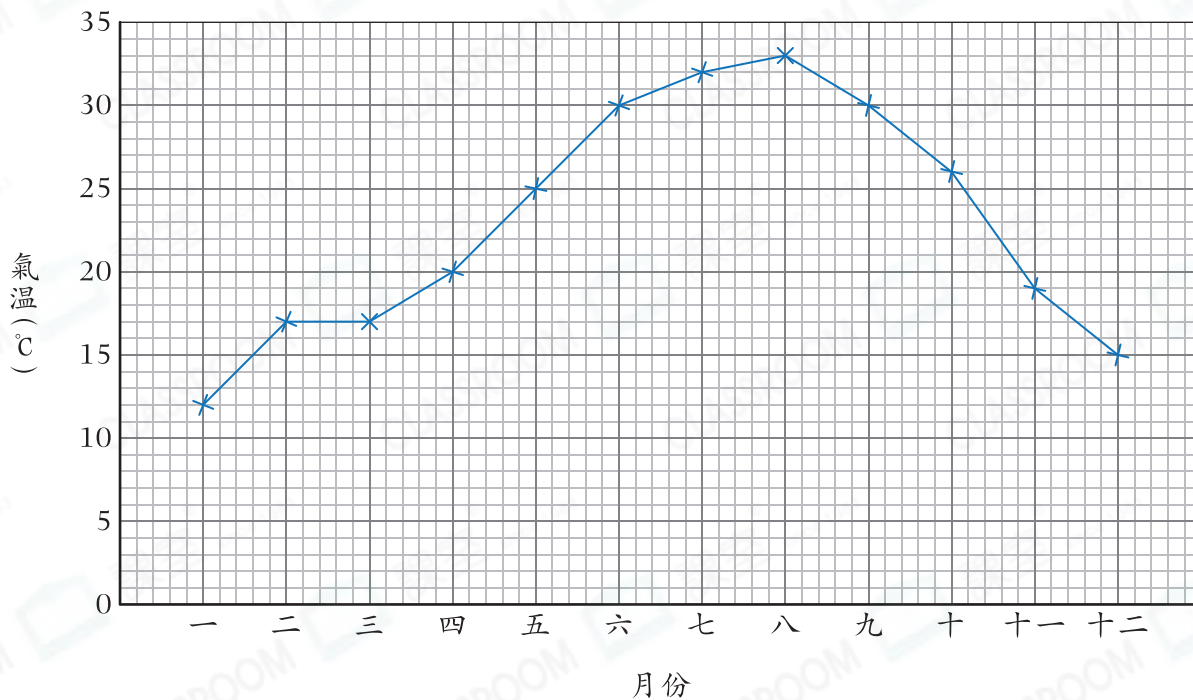
例

線段越傾斜，兼職時間變化越大



根據折線圖，回答下列各題。

去年每月的平均氣溫



- _____月份的天氣最冷，平均氣溫只有_____°C。
- 九月份的平均氣溫是_____月份的兩倍。
- 四月份的平均氣溫是五月份的幾分之幾？
答案：_____
- 整體上，去年上半年的平均氣溫是* 上升 / 不變 / 下降 的。(*圈出答案)

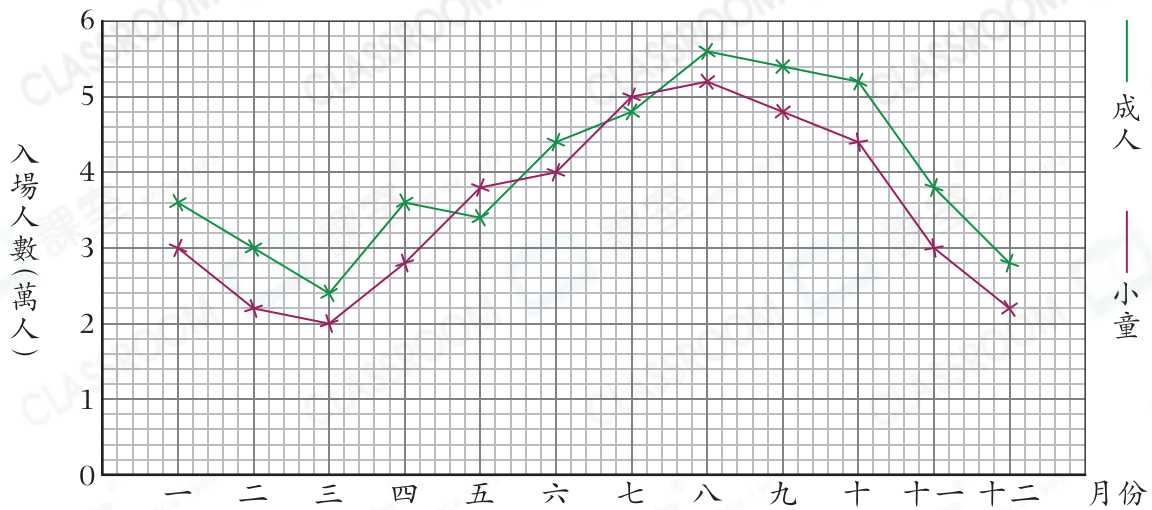


日期

成績

工作人員用折線圖展示野生動物園去年的入場人數。

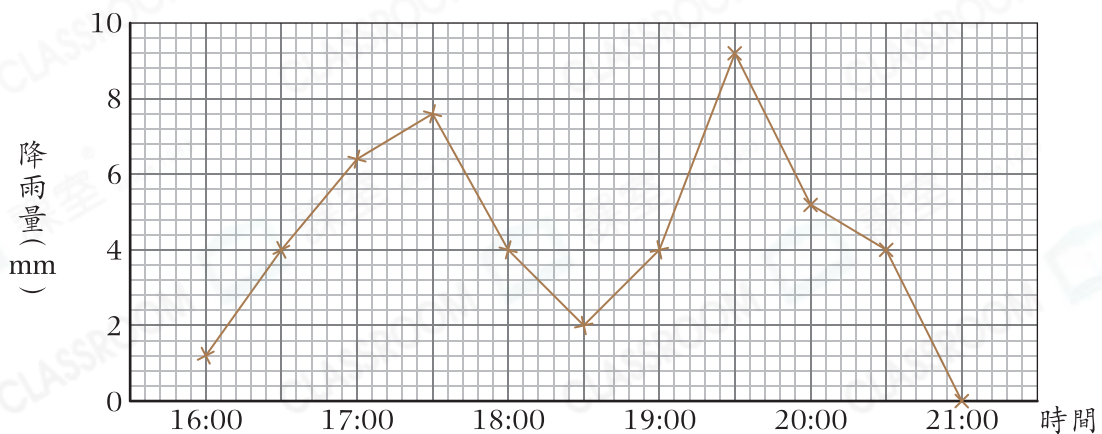
野生動物園去年的入場人數



- 有 _____ 個月小童的入場人數比成人的多。
- 從 _____ 月份至 _____ 月份小童的入場人數持續上升。
- 第一季，平均每月的入場人數是 _____ 人。

天文台用折線圖展示未來五小時的降雨量預測。

未來五小時的降雨量



- 預計有 _____ 小時的降雨量在4mm或以上。
- 預計最大降雨量是在 _____ 午 _____ 時 _____ 分，降雨量可達 _____ mm。
- 降雨可能在什麼時候結束？為什麼？

答案：在 _____ 午 _____ 時結束，因為 _____。