

8 製作折線圖

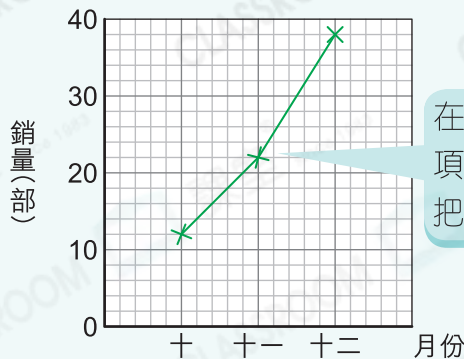


要點導航

例 根據下面表格裏的資料，完成右面的折線圖。

月份	銷量(部)
十	12
十一	22
十二	38

電器店十至十二月暖爐的銷量



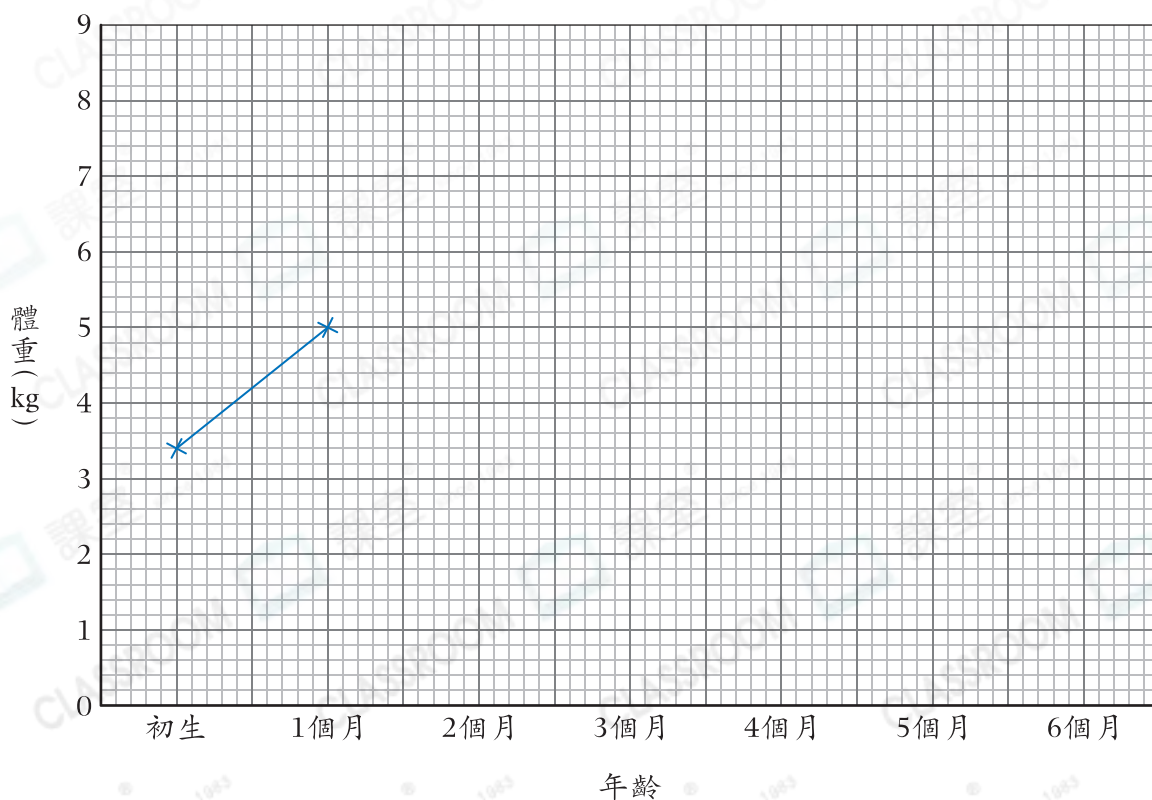
在圖中畫上「×」代表各項目的數值，再以線段把它們依次連起來。

沛玲記錄了弟弟出生半年內的體重。

年齡(月)	初生	1個月	2個月	3個月	4個月	5個月	6個月
體重(kg)	3.4	5	6	6.6	7.4	7.8	8.2

1. 根據上表資料，完成以下折線圖，並加上標題。

(標題)



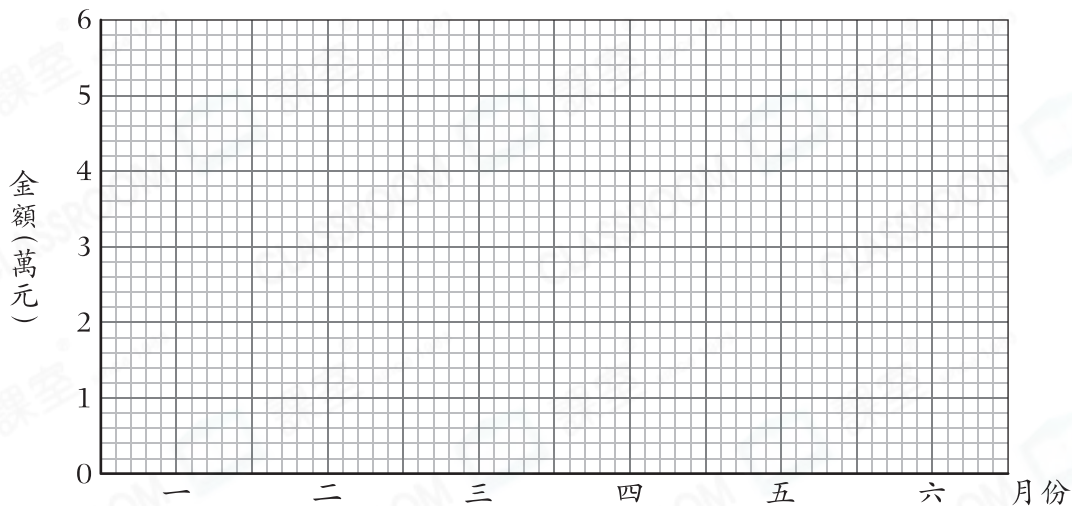
淑雲幫媽媽統計了糖果店上半年的盈利。

月份	一月	二月	三月	四月	五月	六月
盈利(元)	54182	51877	48400	43810	36198	30109
取近似值至千位						

2. 把糖果店的盈利取近似值至千位，並完成上表。

3. 根據湊整後的數據，完成以下折線圖。

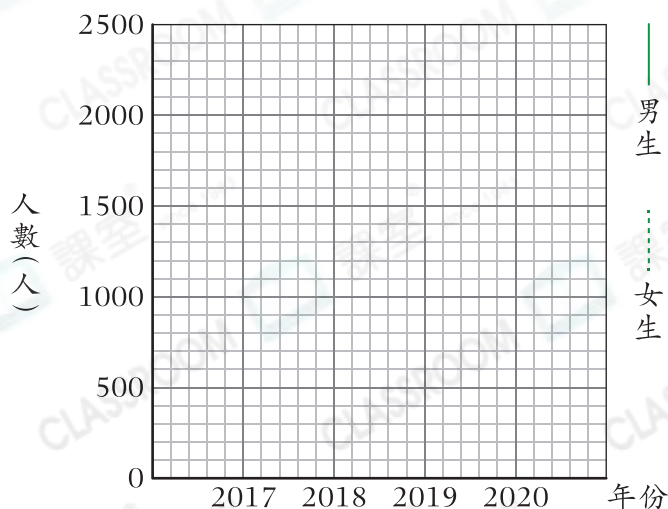
糖果店上半年的盈利



星宇調查了某地區最近四年小一新生入學人數。

4. 根據右表，完成下面的折線圖。

某地區最近四年小一新生入學人數



年份	男生人數	女生人數
2017	1900	2100
2018	1700	1700
2019	1200	1500
2020	1600	1400