

7

14至18的分解和合成



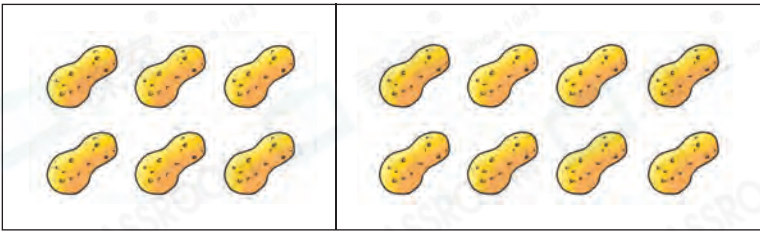
日期：_____

成績：_____



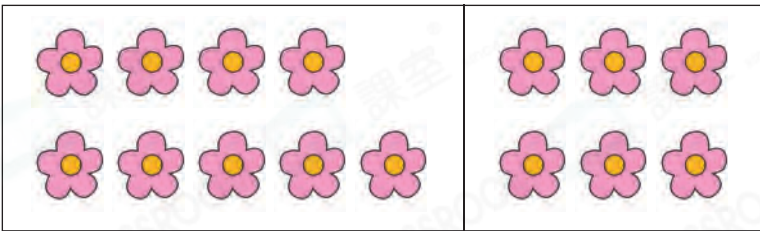
填填看。

1.




$$14 = \square + 8$$

2.



$$\square - 9 = \square$$

3.

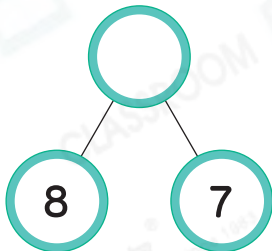


$$\square - \square = 8$$



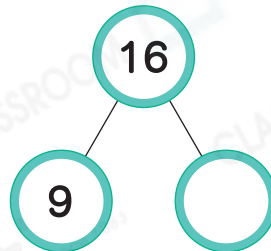
填一填。

4.



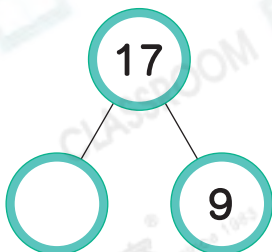
$$8 + 7 = \square$$

5.



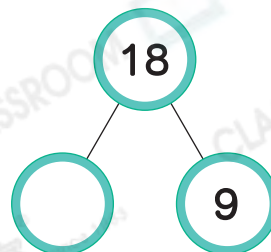
$$16 - 9 = \square$$

6.




$$17 - \square = 9$$

7.



$$18 - \square = 9$$

8.



(a) 5 和 _____ 合成為 _____。

(b) 上圖中共有 _____ 枚郵票。

9. 17 可分解為下列哪一組數？


- A. 9 和 6 B. 9 和 7
 C. 8 和 9 D. 8 和 8

得分重點

從選項入手，觀察哪一組數可合成為 17。


10. 6 和 9 合成的結果等於 _____ 和 8 合成的結果。

11.



爸爸將一箱蘋果分成兩份放在碟子 P 和 Q 上。碟子 Q 上應放 _____ 個蘋果。

12. 家裏原有 16 個月餅，送出右圖的月餅後，餘下 _____ 個月餅。



13.



根據上圖， 代表的數字是 _____。