

9

立體圖形(二)



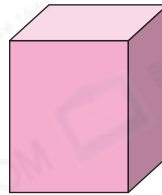
日期：_____

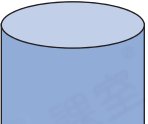
成績：_____



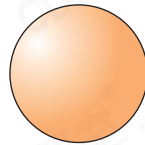
圈一圈。

1. 右圖是(角柱 / 圓柱 / 角錐)，
它(能 / 不能)滾動。



2.  左圖是(角柱 / 圓柱 / 圓錐)，
它(能 / 不能)滾動。

3. 右圖是(圓柱 / 球)，
它(能 / 不能)滾動。

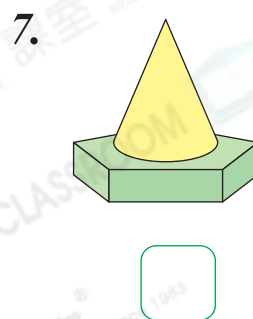
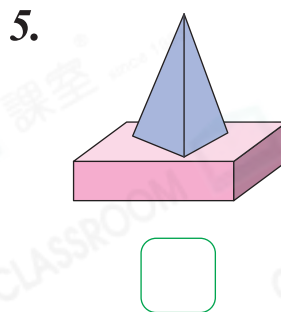
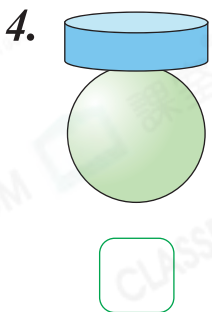


STEAM 百科

地球和月球都近似球，
從地球看向月球，只能
看到月球的部分表面。

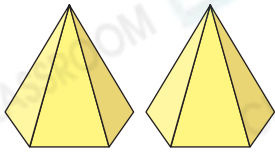


觀察下列各圖，能疊得穩的在 內加「✓」。

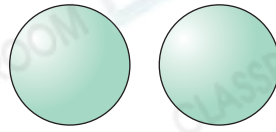


8. 以下哪一項的兩個立體圖形能疊得穩？

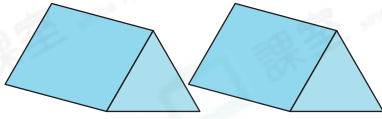
A.




B.



C.

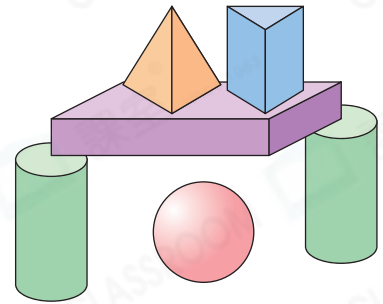


D.



9. (a) 右圖中，共有_____個角柱。

(b) 右圖中，共有_____個立體圖形能滾動。

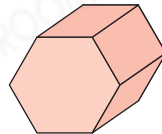


10. 下列哪一個立體圖形和  疊起來，可以疊得穩？

A.



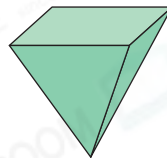
B.



C.




D.



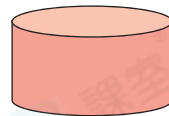
11.



P



Q



R

(a) 立體圖形 P / Q / R (圈出答案) 是角柱。

(b) 將立體圖形 Q 疊在立體圖形 P / R (圈出答案) 上，能疊得穩。