

練習 1-9

範疇	評估重點	題目	得分
數	<ul style="list-style-type: none"> ◇ 20以內的數 ◇ 順數和倒數、奇數和偶數 ◇ 比較數量 ◇ 排次序 ◇ 2至18的分解和合成 	1 - 15	/18
圖形與空間	◇ 立體圖形	16 - 19	/7

自我評估


19-25分 


13-18分 

0-12分 

1.



(a) 共有 _____ 顆糖果，這個數是  奇數 / 偶數。


( 圈出答案)

(b)  比   多 / 少 ( 圈出答案) _____ 顆。


2. 比8大，但比14小的偶數共有 _____ 個。

3. 下列哪一個圖表示「 $9 = 4 + 5$ 」?

○ A.




○ B.



○ C.



○ D.









4. 由15開始倒數至8。

--	--	--	--	--	--	--	--

評分欄



5. 小丑有6個  和8個 ， 比   多 / 少。
( 圈出答案)



6. 15可以分解為下列哪一組數？



A. 5和8

B. 7和9


C. 8和7

D. 9和5


7. 每個盒子最多可放6件西餅，以下哪兩組西餅可放在同一個盒子內？




A組



B組



C組



答案：_____組和_____組

8. 把下列四個數由小至大排列。



17


5

9

13

答案：_____，_____，_____，_____。
(最小) (最大)

9. 用鉛筆把5個  塗上陰影。



10. 由17倒數至7，共有奇數多少個？



答案：_____個



1分



1分



1分



1分



1分



1分



1分

11.



以上是順數， 和 合成為 _____。

12.

把 分給兩姊妹，姊姊分得一對，
妹妹分得 _____ 隻 。

13.

下圖的氣球是依號碼順數排列的，但當中有些氣球飛走了。



(a) 共飛走了 _____ 個氣球。

(b) 飛走了的氣球的號碼是 _____。

14.



上圖中， 排第 1， 排第 _____。


15.

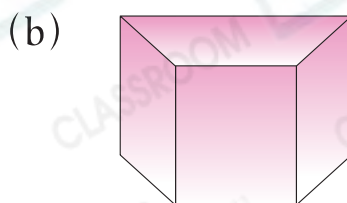


(a) 小希 / 婉芬 / 志雄 / 慧嫻 (圈出答案) 坐在第 3 行第 1 個位置。

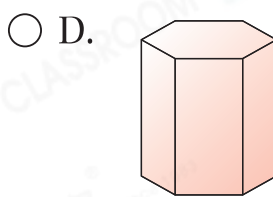
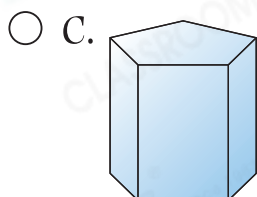
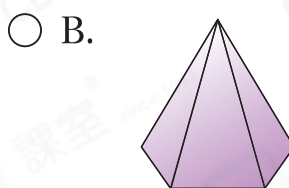
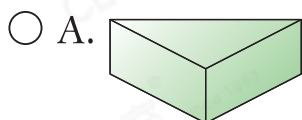
(b) 慧嫻 坐在第 _____ 行第 _____ 個位置。

16. 寫出以下各立體圖形的名稱。





17. 下列哪一個立體圖形與其他的不同類？

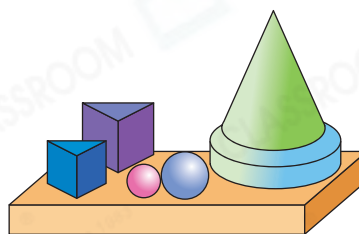


18. 右圖中，

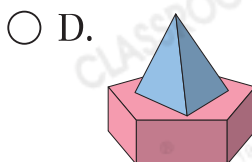
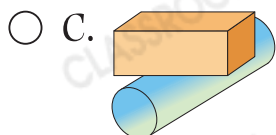

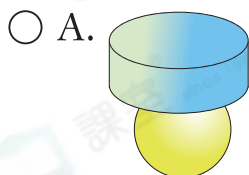
(a) 共有 _____ 個球。

(b) _____ 的數目最多。

(c) 共有 _____ 個立體圖形能滾動。



19. 依下列的疊放方式，哪一組立體圖形能平穩地疊起來？



剔一剔

完成所有題目

已檢查答案

